

# LKPD

## ILMU PENGETAHUAN ALAM

Nama : \_\_\_\_\_

Kelas : \_\_\_\_\_

AYO  
MENGENAL  
IPA!

# BERHITUNG HEWAN MENGGUNAKAN DIAGRAM TULUS


Perhatikan Peternakan Ayah di bawah ini. Hitunglah hewan ternak milik Ayah dan tuliskan pada tabel di bawah ini dengan diagram turus.



| Nama Hewan | Turus | Banyak Hewan |
|------------|-------|--------------|
| Ayam       |       |              |
| Kambing    |       |              |
| Bebek      |       |              |
| Babi       |       |              |



# SISTEM TATA SURYA



## Menurun

- Planet yang memiliki suhu terpanas di tata surya.
- Planet terjauh di tata surya.
- Planet yang memiliki kemiringan sumbu rotasi yang ekstrem.
- Benda langit yang terdiri dari es, debu, dan gas yang mengorbit matahari.
- Bintang pusat tata surya.
- Kendaraan yang digunakan untuk perjalanan luar angkasa.
- Planet terdekat dengan matahari.
- Jalur yang diambil oleh sebuah benda langit saat mengelilingi benda lain.




## Mendatar

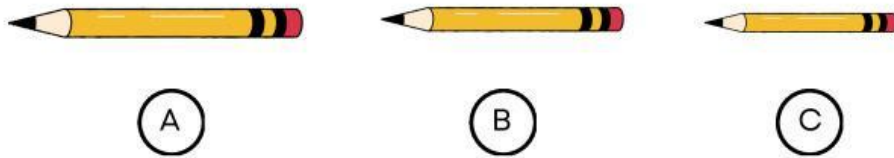
- Benda langit kecil dan berbatu yang mengorbit matahari.
- Dulu dianggap sebagai planet kesembilan, sekarang diklasifikasikan sebagai planet katai.
- Planet yang dikenal dengan cincin yang indah.
- Planet terbesar di tata surya.
- Kumpulan besar bintang, gas, debu, dan materi gelap yang terikat oleh gravitasi.
- Planet tempat tinggal manusia.
- Planet yang dijuluki planet merah.

# MENGURUTKAN BENDA DENGAN PENGUKURAN

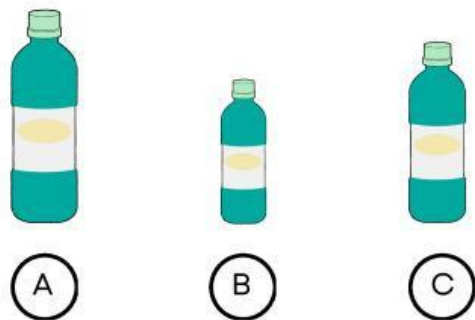
Perhatikan gambar berikut. Jawablah pertanyaan dibawah ini.



Urutkan pohon dari yang paling rendah \_\_\_\_\_



Urutkan pensil dari yang paling panjang \_\_\_\_\_



Urutkan botol minum dari yang paling pendek \_\_\_\_\_

# MENGENAL BAGIAN-BAGIAN TUMBUHAN

Cocokkan gambar bagian tumbuhan di bawah ini dengan  
nama yang benar!



# RANTAI MAKANAN

Amatilah gambar rantai makanan berikut dan letakkanlah kotak pada posisi yang tepat!

Produsen

Konsumen Primer

Konsumen Sekunder

Konsumen Tersier

Konsumen Final

Dekomposer

