

ACTIVIDAD: ¿LÍNEA DE SIMETRÍA?

Docente: Yocaira Rodríguez

Actividad 3.1 — La matemática de la minería • Semana 2 • 4to de Secundaria

Observa cada figura. Decide si tiene **línea de simetría** o no

Recuerda: Una figura tiene **línea de simetría** cuando se puede doblar por esa línea y las dos mitades quedan **exactamente iguales**. También puedes comprobarlo colocando un espejo sobre la línea.

1. Corazón



Corazón

Sí tiene No tiene


2. Rectángulo



Rectángulo

Sí tiene No tiene

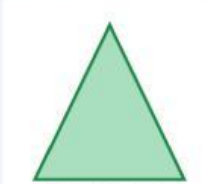
3. Triángulo escaleno



Triángulo escaleno

Sí tiene No tiene

4. Triángulo isósceles



Triángulo isósceles

Sí tiene No tiene


5. Letra A



Letra A

Sí tiene No tiene

6. Letra F



Letra F

Sí tiene No tiene

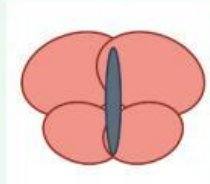
7. Círculo



Círculo

Sí tiene No tiene

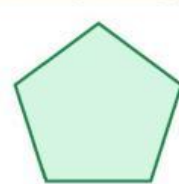
8. Mariposa



Mariposa

Sí tiene No tiene

9. Pentágono regular



Pentágono regular

Sí tiene No tiene