

Centro Educativo en Computación San Bernabé

4to Primaria, Matemática

Segundo bimestre, Examen parcial 2-6

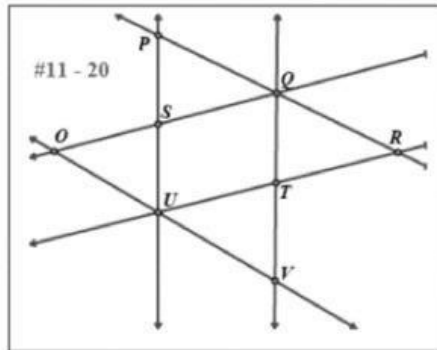
Nombre: _____

Clave: _____

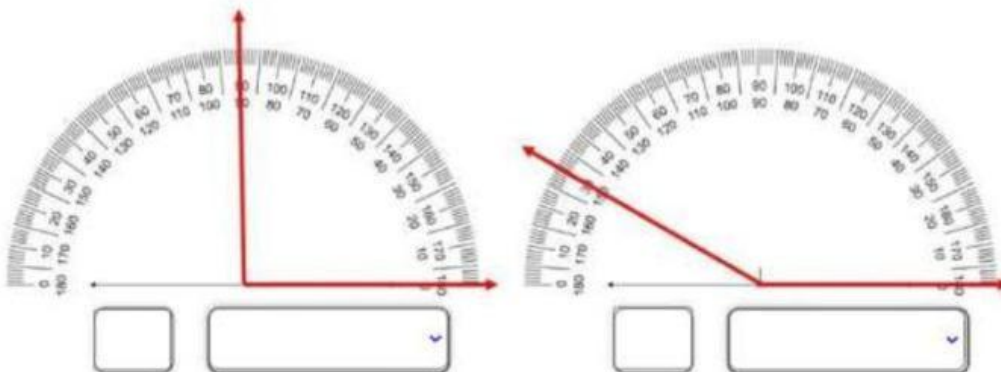
Fecha: _____

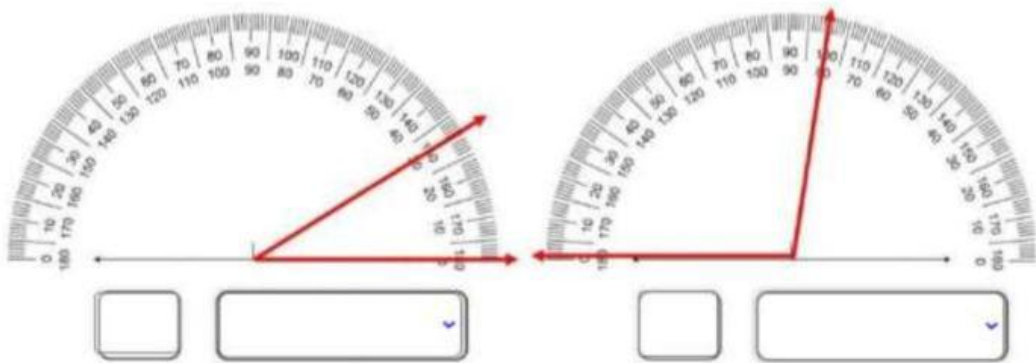
Resuelva lo que en cada inciso se le solicita.

1. observa el diagrama y responde a las preguntas.


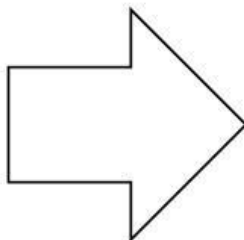



- a. ¿Qué representa el punto UT? _____
- b. ¿Qué representa la Q? _____
- c. Los puntos SQTU representan: _____
- d. Las rectas PR y OV representan: _____
- e. Las restas PU y OQ representan líneas: _____
2. Escriba la medida del ángulo y como se clasifica.





3. Cuente y escriba cuantos lados tienen los siguientes polígonos.



A. _____

b. _____

c. _____

3. Clasifique los siguientes triángulos por sus lados (equilátero, isósceles y escaleno) y por sus ángulos (acutángulo, rectángulo y obtusángulo).

