

Lembar Kerja Peserta Didik

LKPD

**AYO MENGHITUNG
SAMPAI DENGAN 10**

1 2 3 4 5 6 7 8 9 10

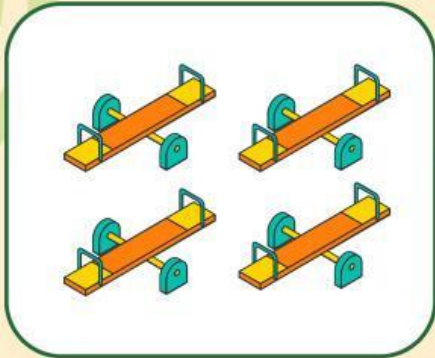


Nama : _____


Kelas : _____

AYO HITUNG JUMLAH BENDA!

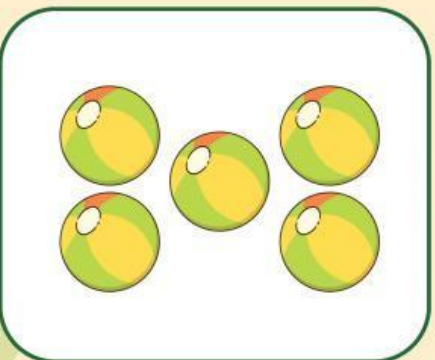
Tariklah garis, pasangkan benda yang sama banyak.




●	●	●
●		



●	●	●

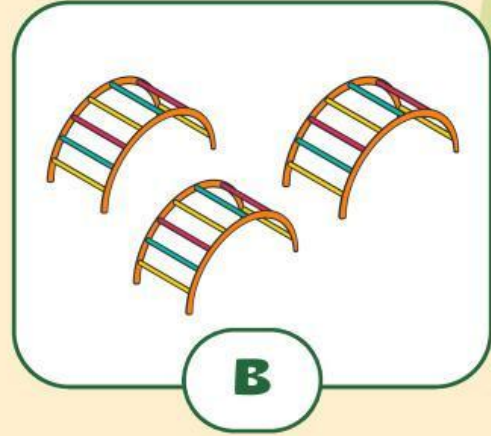
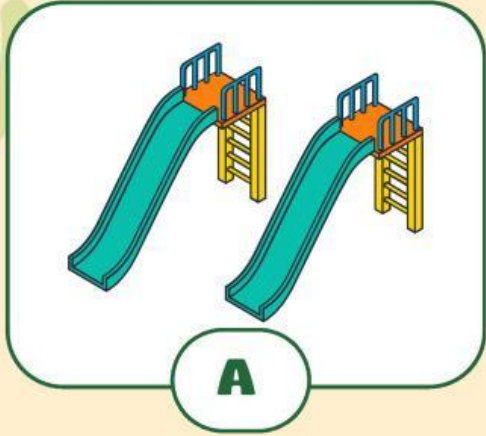


●	●	●
●	●	●



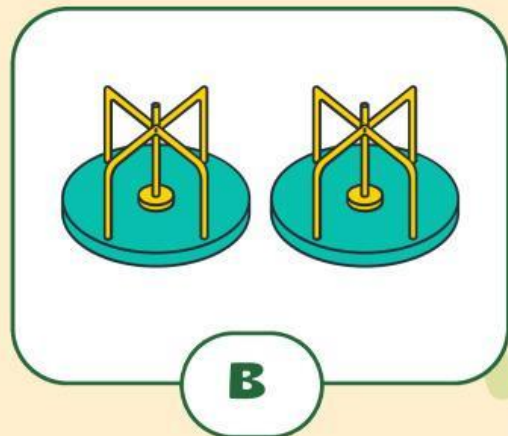
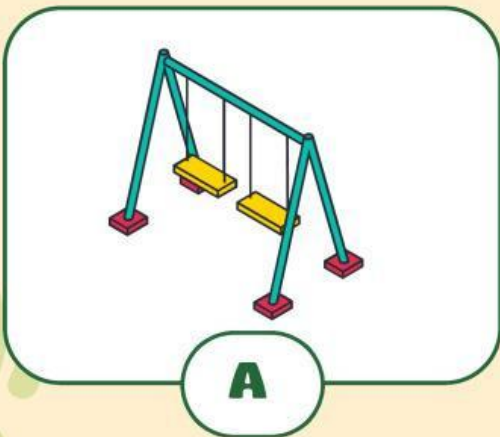
●	●	●
●	●	

AYO BANDINGKAN JUMLAH BENDA!



Benda mana yang jumlahnya lebih banyak?

Benda mana yang jumlahnya lebih sedikit?



Benda mana yang jumlahnya lebih banyak?

Benda mana yang jumlahnya lebih sedikit?

AYO LENGKAPI URUTAN BILANGAN BERIKUT!

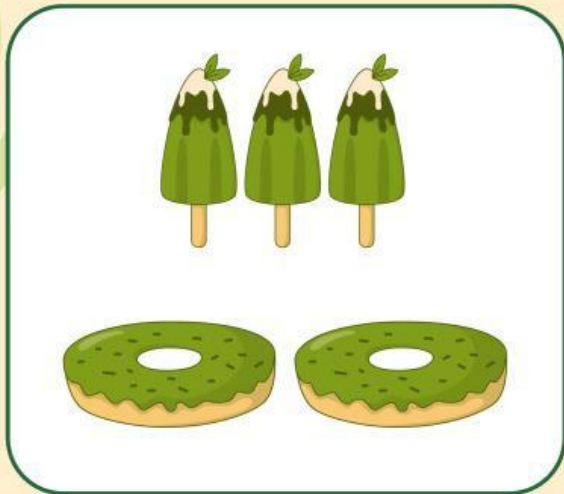
Lengkapi bilangan mulai dari 1 sampai 10



Lengkapi bilangan mulai dari 10 sampai 1




AYO TEMUKAN PASANGAN BILANGAN BERIKUT!



5

.....


.....



7

.....

.....



9

.....

.....