

Lembar Kerja Peserta Didik

LKPD

MATEMATIKA

Operasi Hitung Penjumlahan dan Pengurangan



Nama :

Kelas :

Penjumlahan

Perhatikan petunjuk berikut untuk mengerjakan soal!



 +  =

 +  =


 +  =

 +  =

 +  =

Perasaanku Hari Ini

Baca setiap kalimat dengan baik. Pilih perasaan yang paling sesuai dengan keadaan tersebut, lalu tuliskan jawabannya!

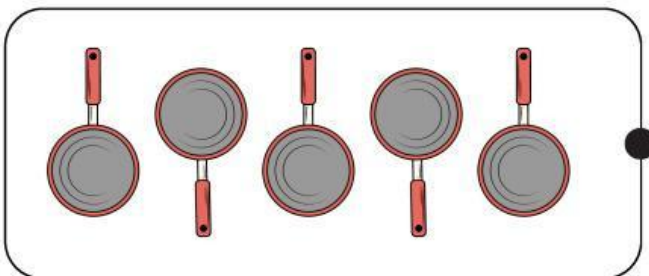
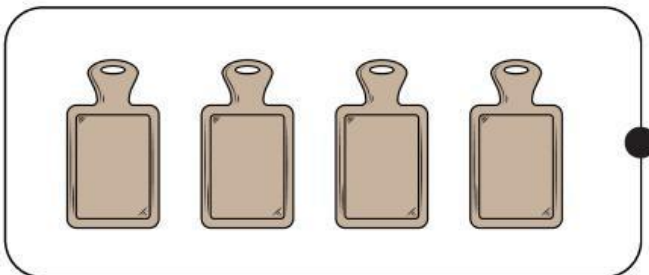
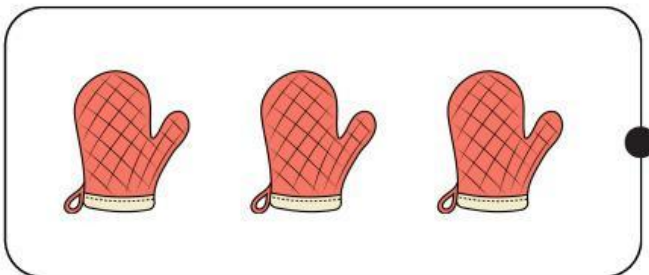
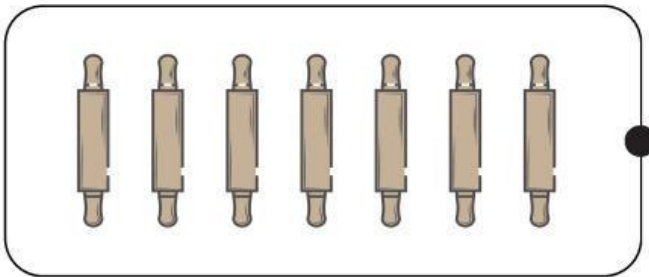


Petunjuk

1. Ketika mendengar suara petir
2. Ketika bermain bersama teman
3. Ketika diejek oleh teman
4. Ketika mainan hilang
5. Ketika mendapatkan hadiah

Ada Berapa Alat Masak?

Yuk, kita rapikan dapur! Hitung jumlah benda di setiap kotak, lalu pasangkan dengan angkanya.



Penjumlahan dengan Cerita Sederhana



Arahan!

Bacalah soal cerita berikut ini dengan teliti. Berilah tanda silang pada jawaban yang benar!

1

Lia memetik 1 bunga, lalu Nenek memberinya 6 bunga. Berapa jumlah bunga Lia sekarang?

A. 8 bunga

B. 7 bunga

C. 5 bunga

2

Pada bunga terdapat 2 kupu-kupu yang hinggap, lalu datang 3 kupu-kupu lagi. Ada berapa kupu-kupu sekarang?

A. 3 kupu-kupu

B. 4 kupu-kupu

C. 5 kupu-kupu

3

Sita menabung 7 koin hari ini. Kemarin ia menabung 3 koin. Berapa jumlah koin yang ditabung Sisi?

A. 10 koin

B. 8 koin

C. 4 koin

4

Vino mempunyai 3 pensil, lalu Iwan memberinya 5 pensil. Berapa jumlah pensil Vino sekarang?

A. 6 pensil

B. 7 pensil

C. 8 pensil

5

Kemarin Dira membeli 2 baju. Hari ini ia kembali membeli 2 baju. Berapa jumlah baju Dira sekarang?

A. 4 baju

B. 6 baju

C. 8 baju

COLOURS

WORD SEARCH

Find the words listed below and mark them with correct colours.

A	B	L	A	C	K	B	F	E	L	K	P
E	R	R	X	U	Y	Z	R	E	D	O	U
R	O	R	A	N	G	E	M	U	V	N	R
O	W	D	I	C	R	A	B	A	E	O	P
L	N	T	V	Y	E	L	L	O	W	F	L
P	A	R	U	S	E	J	U	G	H	H	E
I	O	A	F	A	N	S	E	R	I	A	O
N	P	L	I	L	A	C	D	N	T	E	R
K	E	U	Y	R	D	V	G	R	E	Y	W

- PINK
- GREEN
- RED
- BLACK

- GREY
- YELLOW
- PURPLE
- BROWN

- BLUE
- ORANGE
- WHITE
- LILAC

