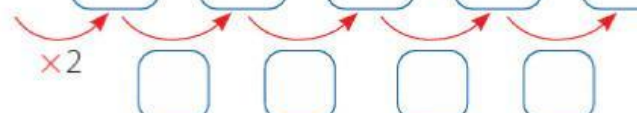


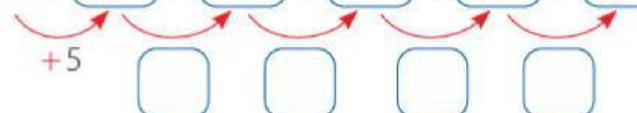
PATRONES ADITIVOS Y MULTIPLICATIVOS

1. Observa la ley de formación y completa cada secuencia.

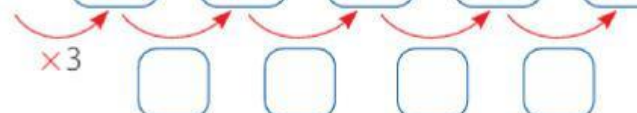
a. 5 ; ; ; ; ;



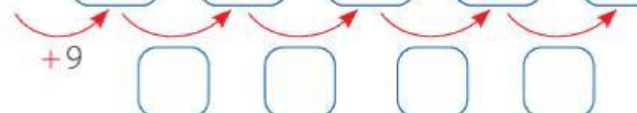
b. 10 ; ; ; ; ;



c. 2 ; ; ; ; ;



d. 8 ; ; ; ; ;



2. Observa la siguiente secuencia. Luego, completa el número que falta e indica la ley de formación.

2 ; 5 ; 8 ; 11 ;

La ley de formación es: _____

3. Mariana trabaja en una pizzería, el primer día ahorra S/ 25 y los días siguientes ahorra S/ 20. Calcula cuánto dinero tendrá ahorrado en 5 días.

Respuesta: _____