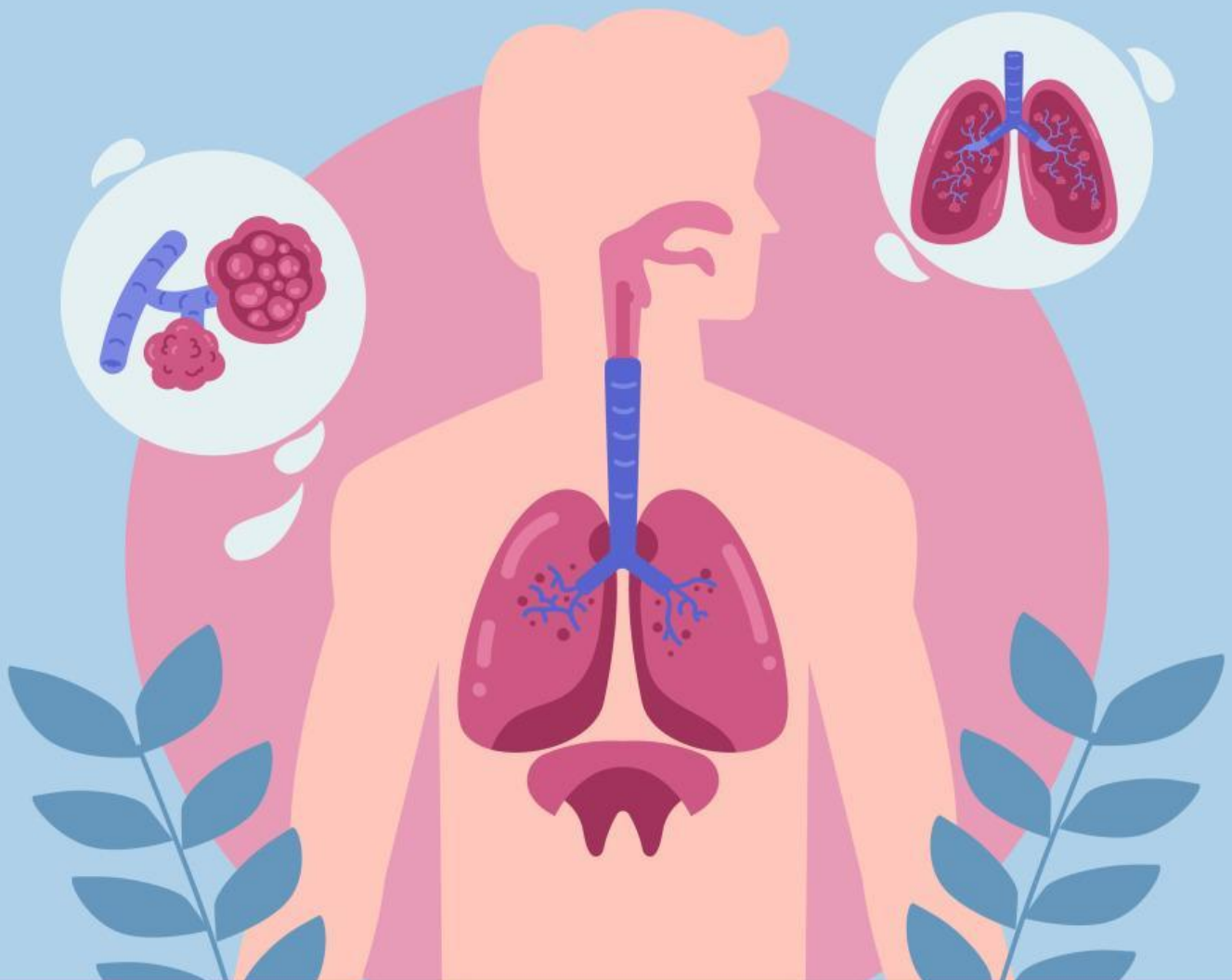


LKPD

Ilmu Pengetahuan Alam

Nama : _____ Kelas : _____



Tema: Sistem Pernapasan Manusia

Sistem Pernapasan Manusia

CP : Peserta didik melakukan simulasi dengan menggunakan gambar/ bagan/ alat/ media sederhana tentang sistem organ tubuh manusia (sistem pernapasan / pencernaan) yang dikaitkan dengan cara menjaga kesehatan organ tubuhnya dengan benar.

Tujuan Pembelajaran :

1. Mengidentifikasi organ-organ pernapasan manusia.
2. Menjelaskan alur udara dari luar tubuh hingga paru-paru dengan bahasa sederhana.
3. Menganalisis pentingnya kesehatan organ pernapasan dalam kehidupan sehari-hari.
4. Menyajikan hasil bagan secara lisan/ tertulis.

Petunjuk Kerja:

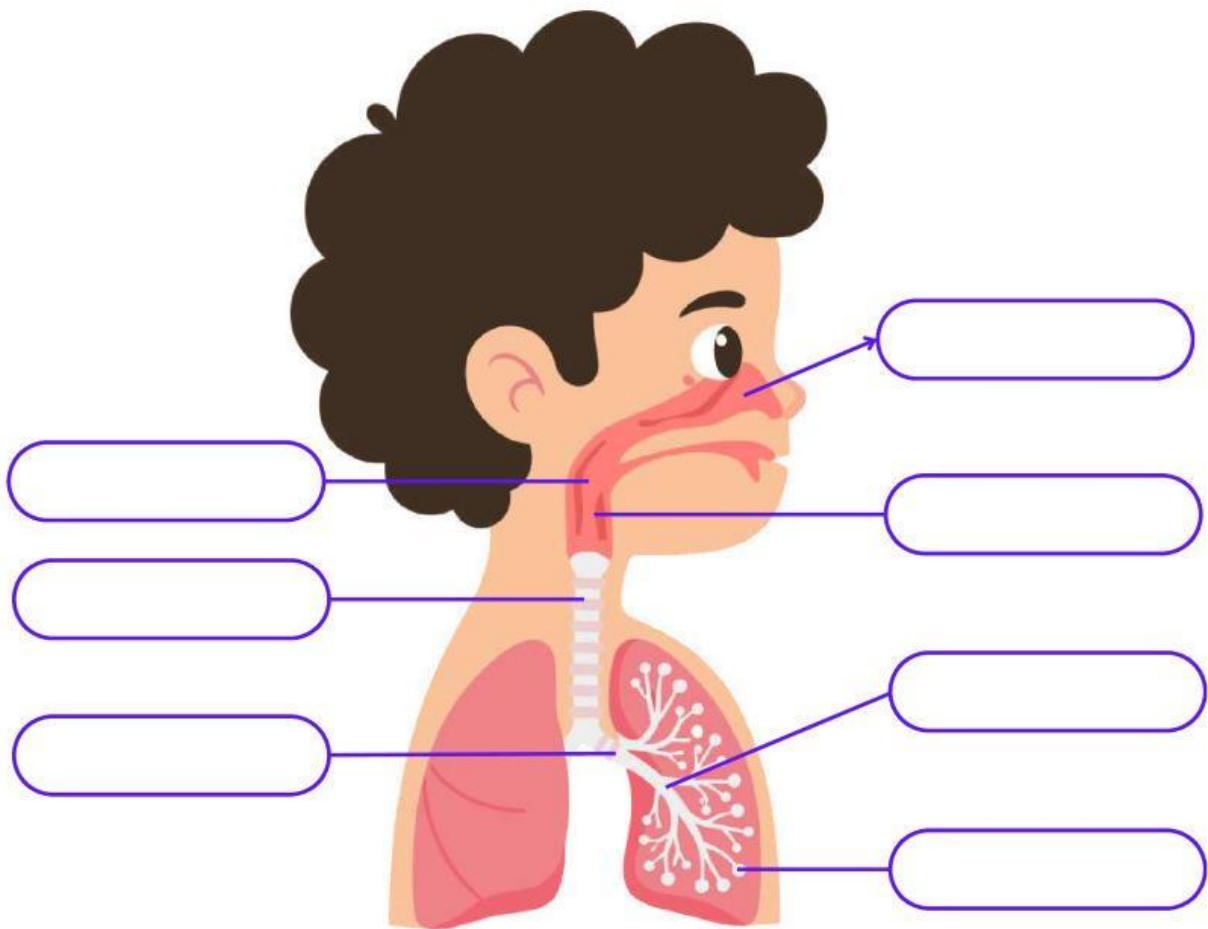
- Tulislah Nama dan Kelas pada halaman Pertama dengan mengklik kotak Nama dan Kelas.
- Ikuti alur kerja LKPD ini sesuai arahan dan petunjuk yang ada.
- Jika kamu diminta menonton video, klik pada tombol yang sudah disediakan.
- Jika kamu diminta mengerjakan latihan, kerjakan dengan baik dan benar sesuai petunjuk.
- Jangan lupa klik tulisan “Finish” jika kamu sudah selesai mengisi LKPD ini pada bagian akhir.



Agar lebih memahami tentang sistem pernapasan manusia, silahkan tonton video berikut dengan klik pada gambar video!

ORGAN PERNAPASAN MANUSIA

Letakkan bagian-bagian organ pernapasan sesuai gambar di bawah ini!

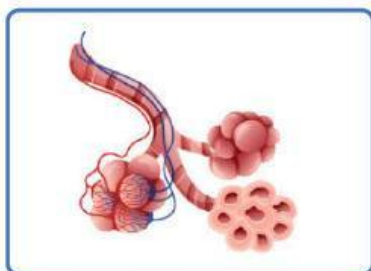
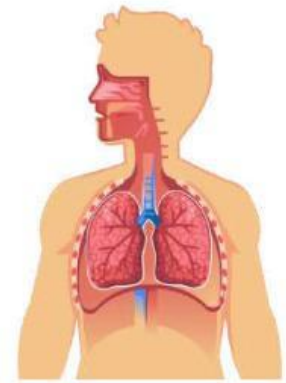


Gunakan nama organ pernapasan berikut untuk melengkapi gambar di atas

- Laring
- Trakea
- Bronkiolus
- Hidung
- Bronkus
- Alveolus
- Faring
- Paru-paru

MENCOCOKKAN SISTEM PERNAPASAN

Hubungkan organ pernafasan sebelah kiri fungsi yang tepat di sebelah kanan dengan menarik garis.



menyalurkan
udara ke
bronkus

otot utama dalam
pernapasan. Saat
kita menarik napas

pintu masuk utama
udara ke dalam
tubuh

Jalan udara dari
hidung ke
trakea

tempat
pertukaran
O₂ dan CO₂