



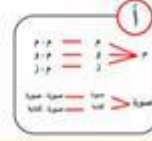
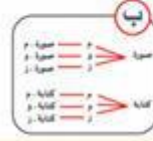
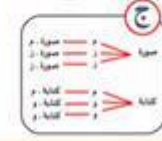
عد النواتج

١. اختاري رمز الإجابة الصحيحة

- أ
ب
ج



عند رمي قطعة نقود وتدوير مؤشر العجلة الدوارة في الصورة المجاورة، فأي من الخيارات التالية يمثل فضاء العينة باستعمال الشجرة البيانية؟



٢. عدد النواتج الممكنة عند حل اختبار مكون من ٣ أسئلة من نوع الاختيار المتعدد ذي الأربع خيارات

- أ. ٦٤ ب. ١٢ ج. ٧

٣. اختيار أحد أشهر السنة بصورة عشوائية مع إلقاء قطعة نقد.

- أ. ٩ ب. ٢٤ ج. ١٤