

DAILY TEST MATERIAL EARTH AND SOLAR SYSTEM

GRADE 7A

A. Multiple Choice (Choose one correct answer)

1. Perhatikan ciri-ciri benda langit berikut !

1. Mengorbit matahari
2. Tidak memancarkan cahaya sendiri
3. Memancarkan cahaya sendiri
4. Pasti mempunyai satelit alami

Ciri-ciri planet ditunjukkan oleh angka...

- A. 1 dan 2 B. 1 dan 3 C. 2 dan 3 D. 3 dan 4

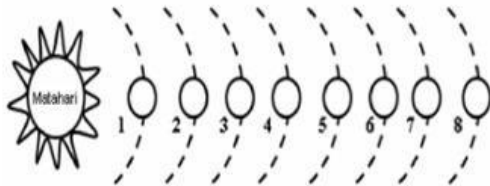
2. Perhatikan gambar lapisan matahari berikut !



Penamaan bagian yang tepat terkait dengan lapisan matahari tersebut adalah....

- A. Inti matahari, fotosfer, kromosfer.
B. Inti matahari, zona radiaktif, zona konvektif.
C. Inti matahari, zona konvektif, zona radiaktif.
D. Inti matahari, kromosfer, fotosfer.

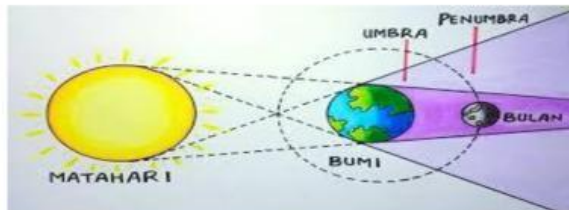
3. Look at the following picture of the composition of the members of the solar system!



Asteroids are among the planets numbered to....

- A. 3 and 5 B. 4 and 5 C. 5 and 7 D. 6 and 8

4. Perhatikan gambar gerakan bumi dan bulan seperti pada gambar berikut.



Ketika posisi bulan berada di penumbra, maka terjadi..

- A. Gerhana bulan total
B. Gerhana bulan penumbra
C. Gerhana matahari total
D. Gerhana matahari sebagian

5. Perhatikan data peristiwa alam berikut !

1. Indonesia memiliki tiga daerah waktu : WIB, WITA, WIT
 2. Belahan bumi tertentu mengalami siang dan malam
 3. Pergantian musim di belahan bumi bagian utara dan selatan
 4. Perubahan lamanya siang dan malam di tempat tertentu pada suatu belahan bumi
- Peristiwa tersebut yang diakibatkan oleh rotasi bumi ditunjukkan oleh nomor...

- A. 1 dan 2 B. 1 dan 3 C. 2 dan 4 D. 3 dan 4

6. Look at the following picture



The planet Uranus is indicated by the number...

- A. 6 B. 7 C. 8 D. 9

7. The following which is not a layer of the sun is...

- A. zona konektif B. zona radioaktif C. fotosfer D. mesosfer

8. Perhatikan pernyataan mengenai benda langit berikut !

1. Mempunyai ekor yang menjauhi matahari
2. Melakukan tiga gerakan sekali gus
3. Orbitnya elips dan sangat lonjong
4. Materinya terdiri dari besi dan nikel

Pernyataan yang benar mengenai komet adalah...

- A. 1 dan 2 B. 1 dan 3 C. 2 dan 3 D. 2 dan 4

9. Which of the following is not a phase of the shape of the moon is...

- A. New moon B. Moon star C. Crescent moon D. Full moon

10. The part of the earth that gets the most sunlight is...

- A. Equator B. Mountains C. Beach D. Pole

B. Drag and Drop (Pindahkan jawaban ke kotak yang di sediakan)

Planet yang mengorbit di dalam sabuk asteroid di sebut.....

Tata surya berada di dalam galaksi yang di sebut...

Tailed star is another name for...

Tidal events are influenced by....

Penomena ketika bayangan bulan menutupi seluruh atau sebagian matahari untuk sampai ke bumi di sebut..

The movement of the earth around the is called.....

Bima Sakti

Gravitasi Bulan

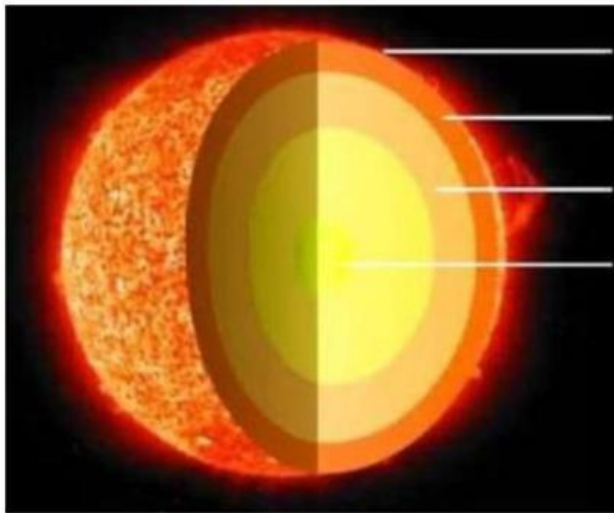
Komet

Planet Dalam

Revolusi

Gerhana Matahari

C. Lengkapi keterangan pada lapisan matahari berikut !



- Inti Corona Kromosfer Fotosfer

D. Join to join (Pasangkan gambar benda langit dengan karakteristiknya yang benar !)



Komet



Meteor



Asteroid

Saat ia terbakar dan jatuh ke bumi namanya berubah, sering disebut batu luar angkasa

Memiliki nama lain planet minor /planetoid, terletak antara Mars dan Jupiter.

Berasal dari sisa pembentukan tata surya, berupa debu, batu dan es, di juluki bintang berekor.