

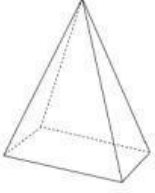
الاسم:----- الصف الثاني

المعلمة خولة الدهماني

1- شكل له طول وعرض وارتفاع

الشكل الثنائي الأبعاد

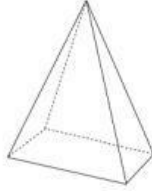
الشكل الثلاثي الأبعاد




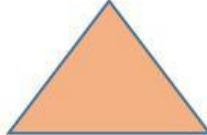
2- شكل له 3 أضلاع و 3 زوايا



3- الصورة التي تحتوي على منشور مستطيل هي



4- شكل ثنائي الأبعاد له 4 أضلاع متساوية و 4 زوايا .



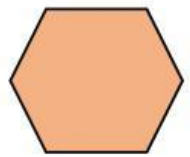
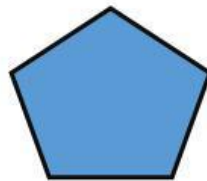
5- شبه المنحرف هو شكل ثنائي الأبعاد له 3 أضلاع و 3 رؤوس



خطاً

صواب

6- حوط الشكل خماسي أضلاع



المعلمة خولة الدهماني

7- رسم أحمد 3 مربعات ورسم علي مثلث ومربعين ومستطيل , فمن رسم زوايا أكثر؟ المعلمة خولة الدهماني

علي

أحمد

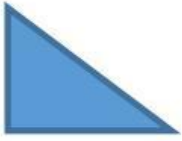
8- شكل ثنائي الأبعاد لا أضلاع له ولا رؤوس له ما هو الشكل

الدائرة

متوازي الأضلاع

المثلث

9- حوط الشكل متوازي أضلاع



10- شكل ثلاثي الأبعاد له وجه واحد دائري و رأس واحد .



10- شكل علم دولة الإمارات العربية المتحدة هو



خماس أضلاع

مستطيل

مربع

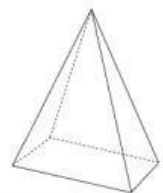
11- بكم يزيد عدد زوايا خماسي الأضلاع عن المثلث؟؟؟

ثلاثة

أثنان

واحد


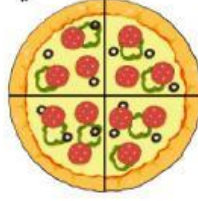

12- شكل ثلاثي الأبعاد له 4 وجوه مثلثة و قاعدة مربعة



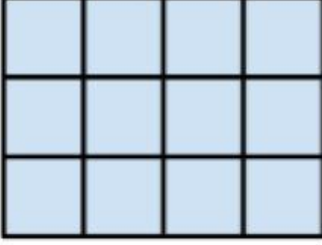
المعلمة خولة الدهماني

13- البيتزا المقطعة الى ارباع هي .

المعلمة خولة الدهماني



14- ماهي مساحة المستطيل ؟



13

21

12

15- كم عدد الأوجه لهذا الشكل ؟

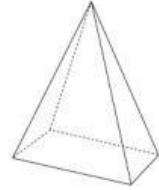


1 أوجه

0 أوجه

2 أوجه

16- أنا شكل ثلاثي الأبعاد لدي 2 أوجه و 0 رؤوس و 0 حواف فمن أنا ؟؟



17- اذا ركبت مكعبين معا فما الشكل ثلاثي الأبعاد الذي ستكونه؟

مستطيل

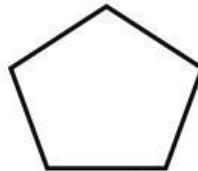
منشور مستطيل

مكعب

18- ارسم الأجزاء المتساوية



أرباع



أنصاف



أنصاف

المعلمة خولة الدهماني