



LEMBAR KERJA PESERTA DIDIK

BELAJAR SUDUT MELALUI PENGAMATAN GAMBAR

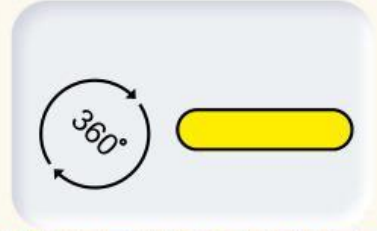
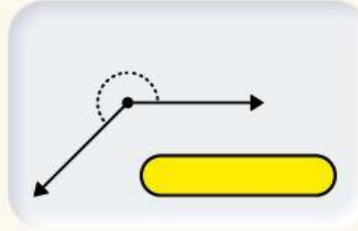
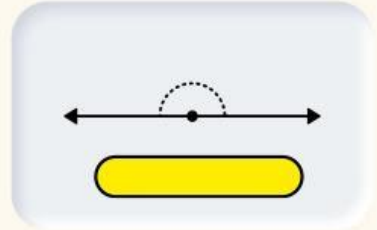
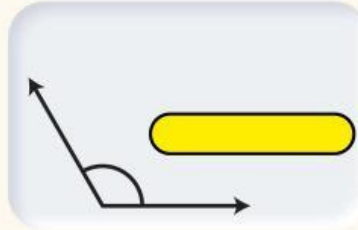
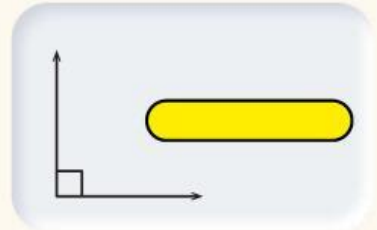
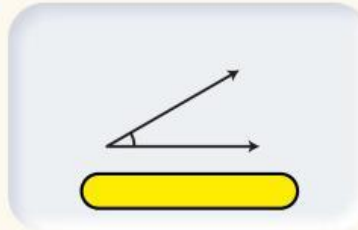
PETUNJUK:

1. AMATI GAMBAR SUDUT.
2. UKUR BESAR SUDUT.
3. TENTUKAN JENIS SUDUT.

KELOMPOK VISUAL

2. Bentuk sudut

AMATILAH VIDEO BERIKUT




TABEL PENGAMATAN



GAMBAR SUDUT A

Besar Sudut :

Jenis Sudut :



GAMBAR SUDUT B

Besar Sudut :

Jenis Sudut :



GAMBAR SUDUT C

Besar Sudut :

Jenis Sudut :



GAMBAR SUDUT D

Besar Sudut :

Jenis Sudut :

TUGAS DISKUSI

- 1) Sudut manakah yang paling besar?
- 2) Sudut manakah yang termasuk sudut siku-siku?
- 3) Apa perbedaan sudut lancip dan sudut tumpul?

Kesimpulan tentang sudut yang kamu pelajari :

