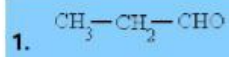


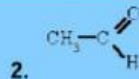
Aldehídos y Cetonas

ALDEHIDOS

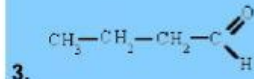
Señala el nombre correcto para estos compuestos:



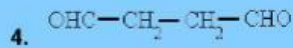
- a) propanol
- b) propanal
- c) etanal



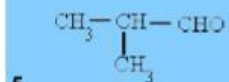
- a) metanal
- b) metanol
- c) etanal



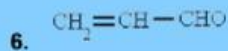
- a) propanal
- b) butanal
- c) butanol



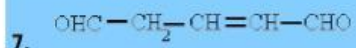
- a) butanodial
- b) etanodial
- c) butanal




- a) 2-propilmetanal
- b) 1-metilpropanal
- c) 2-metilpropanal



- a) propinal
- b) etenal
- c) propenal



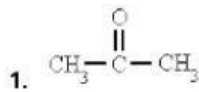
- a) 2-pentendial
- b) 3-pentendial
- c) 3-pentendiol



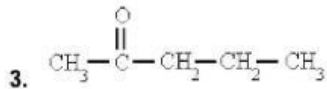
- a) 2-hexinal
- b) 4-hexinal
- c) 1-hexinal

CETONAS

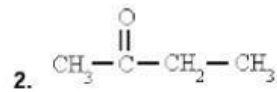
Señala el nombre correcto para estos compuestos de cetonas:



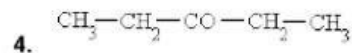
- a) dimetil acetona
- b) propanal
- c) propanona



- a) 2-pentanona
- b) metil etil cetona
- c) 2-butanona

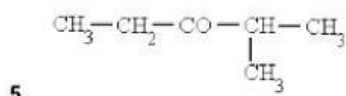


- a) propanona
- b) etil metil cetona
- c) metil etil cetona

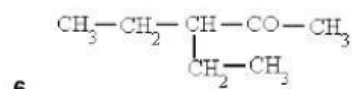


- a) dipropil cetona
- b) 3-butanona
- c) 3-pentanona

GUÍA EVIDENCIA DUA



- a) 2-metil-3-pentanona
- b) 4-metil-3-pentanona
- c) etil vinil cetona



- a) 3-etil-4-pentanona
- b) 3-etil-1-pentanona
- c) 3-etil-2-pentanona