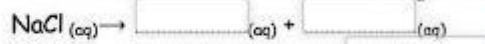


Nama :

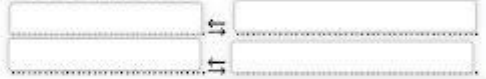
Kelompok :

1. Tuliskan reaksi ionisasi dari larutan garam NaCl



Ion yang terhidrolisis adalah

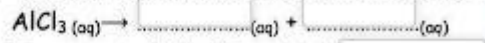
Reaksi hidrolisis:



Jenis Hidrolisis:

Alasan

2. Tuliskan reaksi ionisasi dari larutan garam  $\text{AlCl}_3$



Ion yang terhidrolisis adalah

Reaksi hidrolisis:



Jenis Hidrolisis:

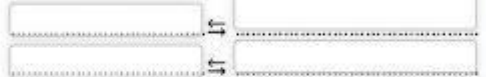
Alasan

3. Tuliskan reaksi ionisasi dari larutan garam NaCN



Ion yang terhidrolisis adalah

Reaksi hidrolisis:



Jenis Hidrolisis:

Alasan

4. Tuliskan reaksi ionisasi dari larutan garam  $(\text{NH}_4)_2\text{CO}_3$



Ion yang terhidrolisis adalah

Reaksi hidrolisis:



Jenis Hidrolisis:

Alasan