

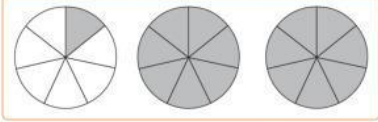

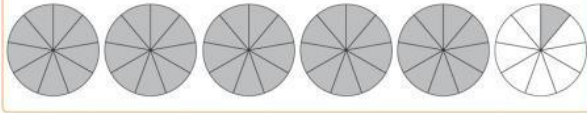


FRACCIONES 6°

Nombre: _____

1. Relaciona cada representación de la izquierda con una de la derecha

| | | | |
|-----------------|---|---|---|
| $\frac{21}{4}$ | ○ | ○ |  |
| $2\frac{1}{7}$ | ○ | ○ |  |
| $\frac{9}{2}$ | ○ | ○ |  |
| $5\frac{1}{9}$ | ○ | ○ |  |
| $\frac{37}{14}$ | ○ | ○ |  |

2. Ubica estos números en la recta

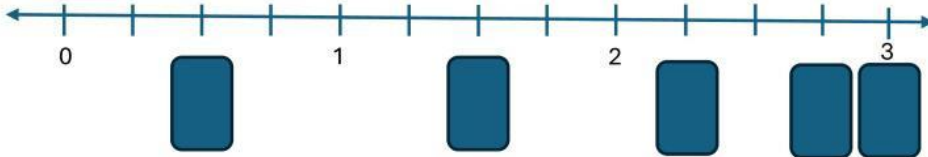
$2\frac{3}{4}$

$\frac{9}{4}$

$1\frac{2}{8}$

$\frac{1}{2}$

$\frac{24}{8}$



3. Ordena las fracciones de menor a mayor

| | |
|---|--|
| <p>1) $\frac{2}{3}, \frac{1}{2}, \frac{3}{4}, \frac{4}{5}$</p> <p><input style="width: 40px; height: 30px;" type="text"/> < <input style="width: 40px; height: 30px;" type="text"/> < <input style="width: 40px; height: 30px;" type="text"/> < <input style="width: 40px; height: 30px;" type="text"/></p> | <p>2) $\frac{1}{6}, \frac{4}{9}, \frac{5}{12}, \frac{1}{3}$</p> <p><input style="width: 40px; height: 30px;" type="text"/> < <input style="width: 40px; height: 30px;" type="text"/> < <input style="width: 40px; height: 30px;" type="text"/> < <input style="width: 40px; height: 30px;" type="text"/></p> |
|---|--|