



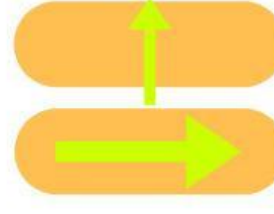
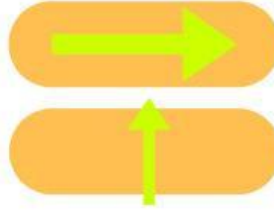
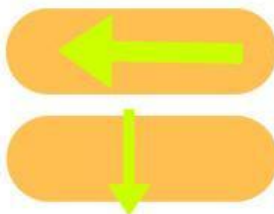
# Fuerza y trayectoria

Responde de acuerdo a lo aprendido en clase

- Desglosa las opciones y elige la respuesta correcta.



- ¿Hacia donde están aplicando fuerza los siguientes niños?. Arrastra la opción correcta.



- Enumera a los animales del más lento al más rápido

