


NOMBRE:

FECHA:

# Clasificación de triángulos

1.-Arrastra cada triángulo en el grupo que corresponda.



triángulos  
isósceles










triángulos  
equiláteros

triángulos  
escalenos

# Clasificación de triángulos

2.-Elige el nombre correcto de cada triángulo



 <input type="text"/>	 <input type="text"/>	 <input type="text"/>
 <input type="text"/>	 <input type="text"/>	 <input type="text"/>
 <input type="text"/>	 <input type="text"/>	 <input type="text"/>



3.-Une con flechas según corresponda:

Triángulo isósceles

tiene tres lados iguales

Triángulo equilátero

tiene dos lados iguales

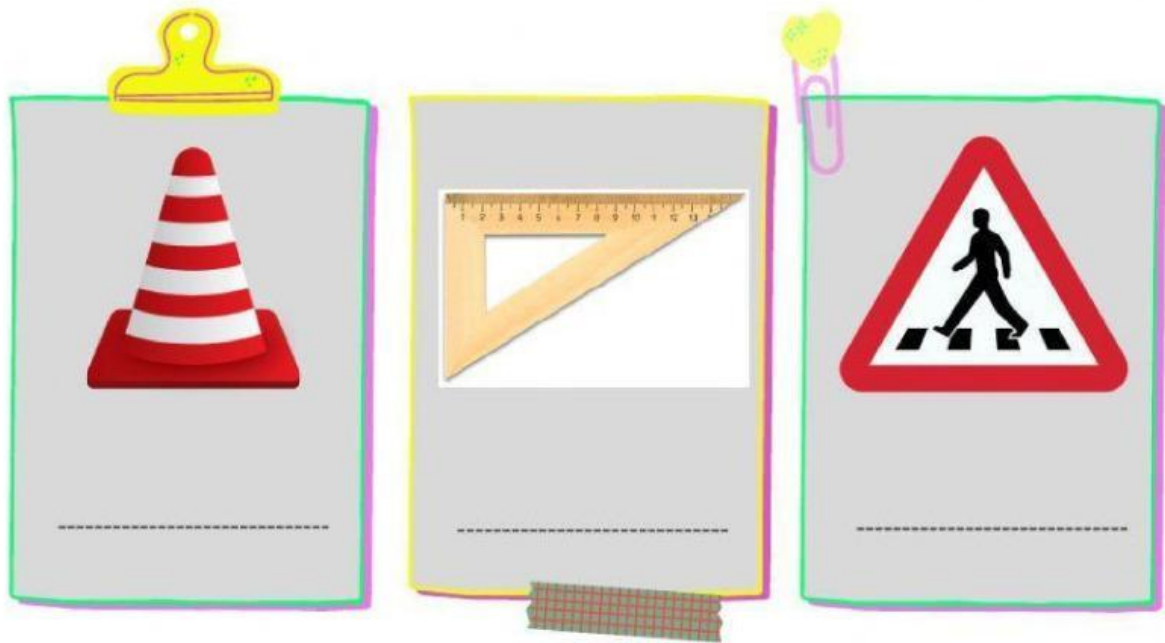
Triángulo escaleno

tiene tres lados desiguales



# Clasificación de triángulos

4.-¿Qué triángulos representan las imágenes?



5.- Sopa de letras.

M	W	X	T	X	C	L	L	G	A	L	K
V	P	M	X	K	Q	O	Y	C	I	J	Q
O	N	X	S	S	K	R	S	A	V	C	H
R	I	M	A	G	X	E	H	N	P	W	Q
N	S	I	M	N	Q	T	A	J	B	C	G
E	O	D	P	M	X	A	N	Q	G	G	C
C	S	Y	M	E	O	L	G	L	O	M	A
I	C	C	Q	N	J	I	U	U	U	P	C
T	E	U	X	R	N	U	L	X	C	H	F
R	L	C	T	Q	I	Q	O	C	S	L	H
E	E	S	C	A	L	E	N	O	S	Q	S
V	S	M	R	T	D	O	X	O	B	B	S

ESCALENO

ISÓSCELES

EQUILÁTERO