

LEMBAR KERJA PESERTA DIDIK

LKPD

MATEMATIKA




NAMA :

KELAS :

Mecocokkan Bangun Datar

Pasangkan Bentuk dan Namanya




Lingkaran



Persegi



Segi lima



Segi tujuh






Trapesium




Segitiga

Mengenali Bangun Datar



Tuliskan nama bangun datar sesuai gambar di bawah ini!






Mencocokkan Bentuk

Tariklah garis gambar bangun datar yang memiliki bentuk sama




Mengenal Bangun Datar Persegi



Persegi

Pilihlah gambar persegi dibawah ini!



CIRI & SIFAT BANGUN DATAR

Cermati gambar dibawah kemudian tarik garis dan pasangkan dengan pernyataan yang benar!



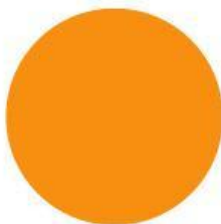
- Memiliki 4 sisi sama panjang
- 4 sudut siku-siku yang sama besar



- Memiliki 4 sisi, kedua sisi yang saling berhadapan sama panjang dan sejajar



- Memiliki satu titik pusat
- Jumlah derajat sebesar 360 derajat



- Memiliki 3 sisi yang sama panjang
- Memiliki 3 sudut yang sama besar



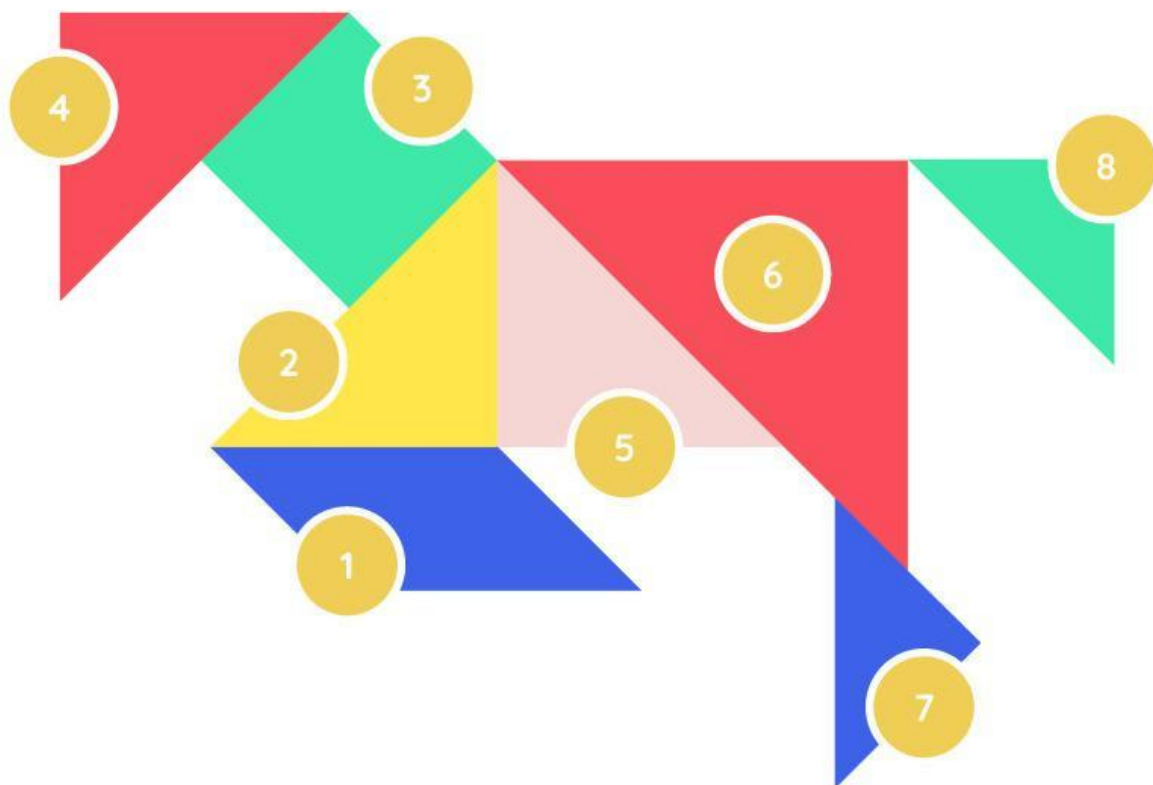
- Memiliki 6 sisi yang sama panjang
- Memiliki 6 sudut yang sama besar

Nama :

Kelas :

Bangun Datar

Tuliskan nama bangun sesuai nomor yang diberikan.



1

2

3

4

5

6

7

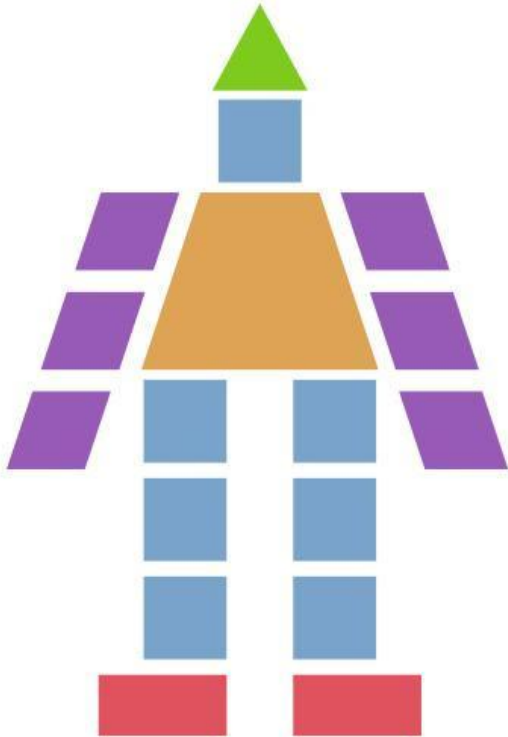
8

Nama :

Kelas :

DEKOMPOSISI BANGUN DATAR

Amati susunan bangun datar di bawah ini kemudian tentukan komposisi bangun datar dari susunan tersebut!



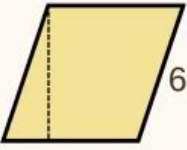
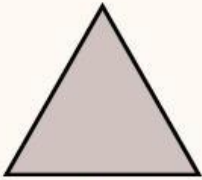
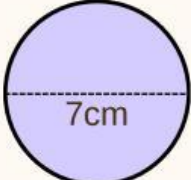


Bentuk Bangun	Nama Bangun	Jumlah Bangun
		
		
		
		
		

Kelas :

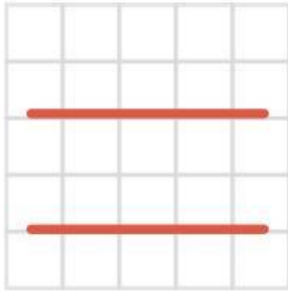
Keliling dan Luas Bangun Datar

Hitunglah keliling dan luas bangun datar di bawah dengan benar!

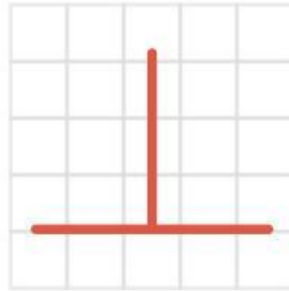
Bangun Datar	Nama Jenis	Keliling	Luas
 12 cm			
 7cm 15 cm			
 10 cm 6 cm			
 6 cm			
 7cm			

GARIS SEJAJAR & TEGAK LURUS

Tentukanlah garis-garis di bawah ini dengan benar!




Garis :



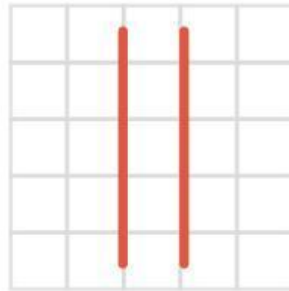
Garis :



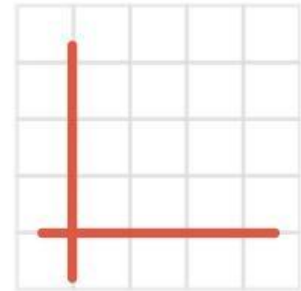
Garis :




Garis :



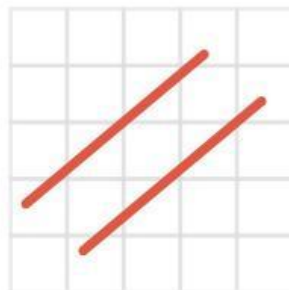
Garis :



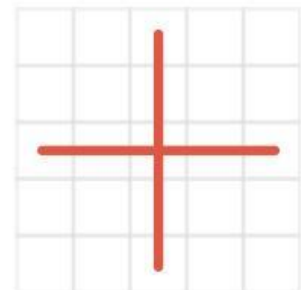
Garis :



Garis :



Garis :



Garis :