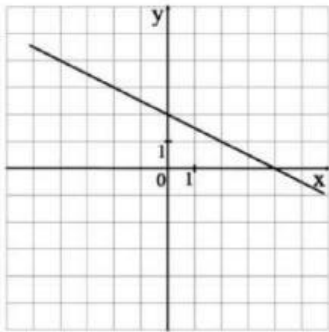
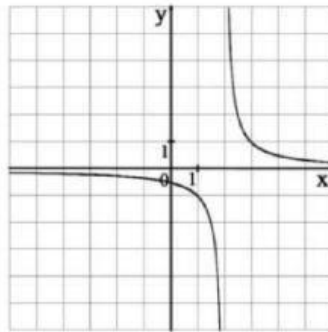


Установите соответствие между графиками функций и формулами, которые их задают.

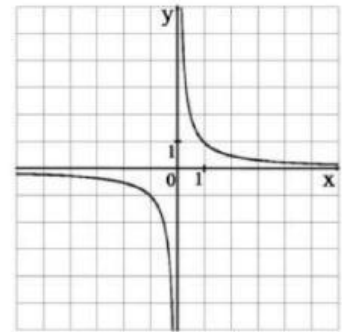
Графики:



A)



Б)



В)

Функции:

1) $y = \frac{1}{x-2}$; 2) $y = 2 - \frac{x}{2}$; 3) $y = x - 2$; 4) $y = \frac{1}{x}$.

В таблице под каждой буквой укажите соответствующий номер.

Ответ:

А	Б	В
2	1	4