
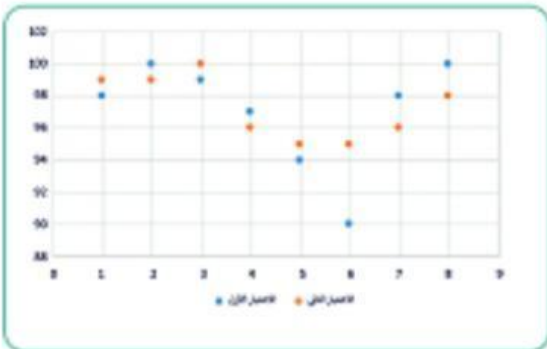


# تدريب 1

اذكر أنواع المخططات وحدد استخدامها فيما يأتي:



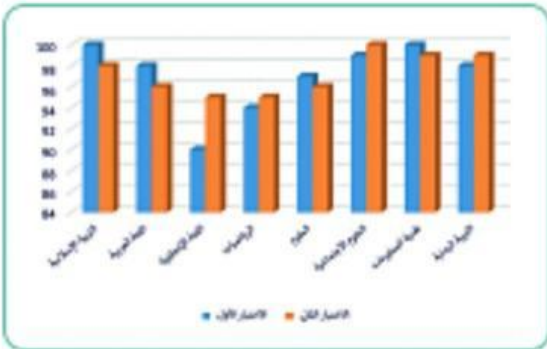
.....  
 .....  
 .....  
 .....



.....  
 .....  
 .....  
 .....



.....  
 .....  
 .....  
 .....



.....  
 .....  
 .....  
 .....