

I. Phần trắc nghiệm.

Chọn câu trả lời đúng:

Câu 1. Số?




- A. 75 B. 79 C. 82 D. 81

Câu 2. Trong các số 76, 82, 73, 91; số bé nhất là:

- A. 76 B. 82 C. 73 D. 91

Câu 3. Hình bên có:

- A. 5 hình vuông
B. 4 hình vuông
C. 3 hình vuông
D. 6 hình vuông



Câu 4. Số gồm 2 đơn vị và 5 chục viết là:

- A. 25 B. 12 C. 50 D. 52

Câu 5. Trong bảng các số từ 1 đến 100, số đứng trước số nhỏ nhất có hai chữ số là:

- A. 11 B. 99 C. 10 D. 9

Câu 6. Trong một tuần, nếu ngày 1 tháng 5 là thứ ba thì ngày 5 tháng 5 là:

- A. Thứ hai B. Thứ sáu C. Thứ bảy D. Chủ nhật

Câu 7. Đồng hồ hình bên chỉ:


- A. 6 giờ B. 7 giờ
C. 8 giờ D. 9 giờ




II. Phần tự luận.

Bài 1. Đặt tính rồi tính:

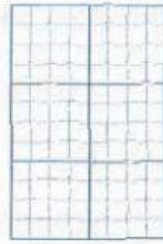
$53 + 6$




$21 + 46$



$78 - 35$



$98 - 86$



$59 - 8$



Bài 2. Số?

$61 + 17 = \square$

$97 - \square = 55$

$\square + 14 = 84$

$20 + 50 - 30 = \square$

$46 - 40 + 82 = \square$

Bài 3. Cho các số: **53, 22, 61, 30.**

a. Viết các số theo thứ tự tăng dần:

b. Số lớn nhất là: c. Số bé nhất là:

Bài 4. Một cửa hàng có 43 chiếc xe máy. Cửa hàng đã bán đi 12 chiếc. Hỏi cửa hàng còn lại bao nhiêu chiếc xe máy?

Phép tính:



Trả lời:

Cửa hàng còn lại chiếc xe máy.

Bài 5. Số?

Mẹ Lan đi công tác 10 ngày. Như vậy, sau 1 tuần và ngày, mẹ Lan sẽ trở về nhà.