

**LEMBAR KERJA PESERTA DIDIK
(LKPD)**

TEMA 5 SUB TEMA 1

PEMBELAJARAN 1

**KOMPONEN
EKOSISTEM**

OLEH :

I Wayan Wija Astawa,S.Pd

SDN Nyanglan

Kelas

V

SD / MI



Tugas 3

Menyebutkan Hewan Berdasarkan Jenis Makanan

1. Berdasarkan gambar di samping, hewan tersebut tergolong ke dalam



2. Berdasarkan gambar di samping, hewan tersebut tergolong ke dalam



4. Berdasarkan gambar di samping, hewan tersebut tergolong ke dalam



5. Berdasarkan gambar di samping, hewan tersebut tergolong ke dalam



3. Berdasarkan gambar di samping, hewan tersebut tergolong ke dalam



6. Berdasarkan gambar di samping, hewan tersebut tergolong ke dalam





Tugas 4

Mengenal Ekosistem

A. Pilihlah Jawaban yang paling benar!

1. Suatu sistem ekologi yang terbentuk dengan adanya hubungan timbal balik dan juga tidak terpisahkan dengan makhluk hidup dan lingkungan

a. **Lingkungan**

b. **Ekosistem**

c. **Habitat**

d. **Halaman**

1. Dalam sebuah lingkungan dikelompokkan menjadi dua jenis yang disebut dengan lingkungan . . . dan lingkungan

a. **Biotik dan biota**


b. **Biotik dan abita**

c. **Abiotik dan biotik**

d. **Abiotik dan habitat**

B. Berilah tanda checklist (✓) pada gambar yang sesuai!

2. Berilah tanda checklist (✓) pada gambar yang termasuk komponen biotik!




C. Menjodohkan

1. Hubungkan gambar yang sesuai berdasarkan makanannya!




D. Mengelompokkan


1. Kelompokkan hewan-hewan di bawah ini berdasarkan jenis makanannya!



Herbivora



Karnivora



Omnivora

