

Câu 1. Số 55 đọc là:

A. năm mươi năm

B. năm lăm

C. lăm mươi năm

D. năm mươi lăm

Câu 2. Độ dài của chiếc bút chì là:



A. 3 cm

B. 4 cm

C. 7 cm

D. 8 cm

Câu 3.  $<$ ,  $>$ ,  $=$  ?

89

?

98

A.  $<$

B.  $>$

C.  $=$

Câu 4. Trong các số 75, 53, 47, 81; Số lớn nhất là:

A. 75

B. 53

C. 47

C. 81

Câu 5. Số tròn chục ở giữa 38 và 42 là:

A. 30

B. 39

C. 40


C. 41

Câu 6. Câu đúng là:


A. Nam thấp nhất

B. My cao hơn Nam

C. Lâm thấp hơn An



Câu 7. Độ dài của con cá là:



A. 0 cm

B. 2 cm


C. 3 cm

D. 4 cm

**Câu 8.** Số ?

- Số gồm 9 chục và 9 đơn vị là:
- Số gồm 7 chục và 0 đơn vị là:
- Số gồm 4 đơn vị và 5 chục là:

**Câu 9.** Cho các số:



Sắp xếp các số theo thứ tự từ bé đến lớn:

42	38	65	47

**Câu 10.** Số liền trước của số bé nhất có hai chữ số là:

A. 10	B. 11	C. 9	D. 0
-------	-------	------	------