

# LKPD

## MATEMATIKA KELAS 5

### SEMESTER 2

#### BAB - PENGOLAHAN DATA

Nama : \_\_\_\_\_

Kelas : \_\_\_\_\_








# MEMBACA DATA

Nama:

Kelas:

## Data Buah Favorit

Buah	Turus	Jumlah
		25
		30
		18
		22
		26

Jawablah pertanyaan berikut berdasarkan tabel data!

Buah apa yang paling banyak diminati siswa?

\_\_\_\_\_

Buah apa yang paling sedikit diminati siswa?

\_\_\_\_\_

Berapa jumlah peminat buah pisang?

\_\_\_\_\_

Hitunglah seluruh buah yang diminati siswa?

\_\_\_\_\_

Adakah buah dengan jumlah peminat yang sama?

\_\_\_\_\_

Berapakah jumlah peminat buah jeruk dan apel??






\_\_\_\_\_

# MEMBACA DIAGRAM

Nama:

Kelas:

## Data Kegemaran Siswa Kelas 5 SD Negeri Sukamaju

Kegemaran	Banyak Siswa
Berenang	
Sepak Bola	
Membaca	
Menggambar	
Bersepeda	

Keterangan =  mewakili 2 siswa

Jawablah pertanyaan di bawah ini dengan benar!

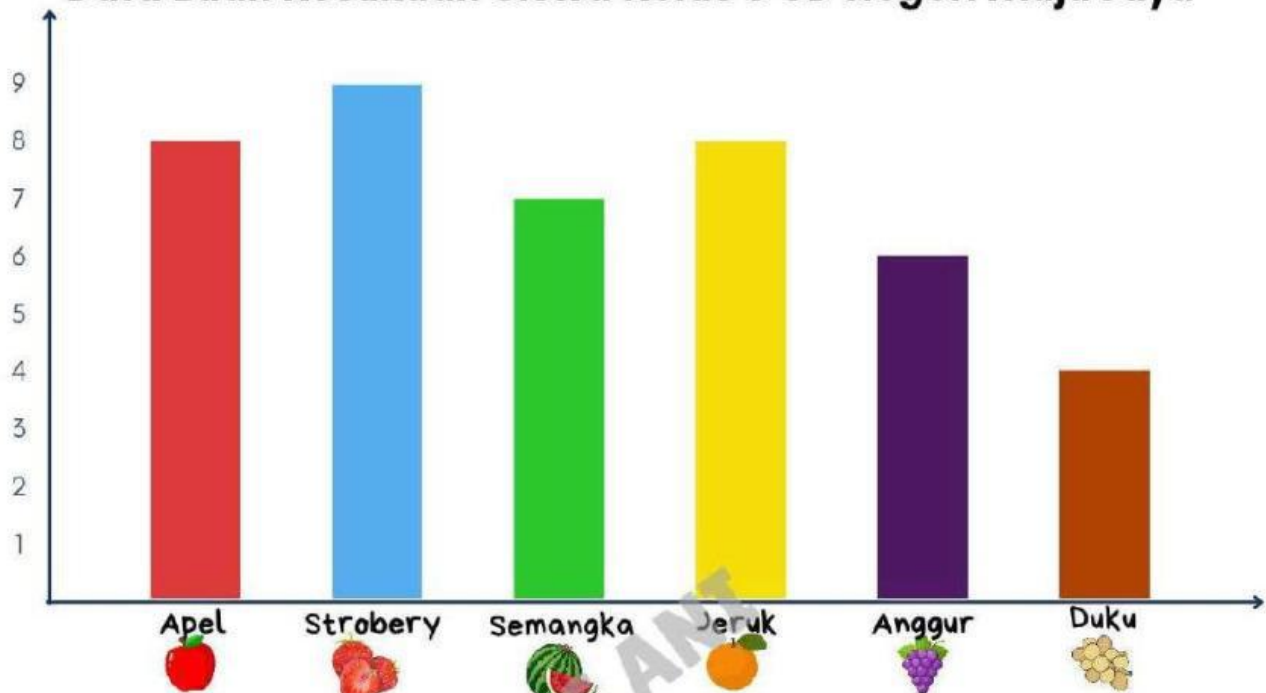
1. Jumlah siswa yang gemar berenang adalah . . .
2. Jumlah siswa yang gemar sepakbola adalah . . .
3. Jumlah siswa yang gemar membaca adalah . . .
4. Jumlah siswa yang gemar menggambar adalah . . .
5. Kegemaran yang paling banyak disukai siswa kelas 5 adalah . . .
6. Kegemaran yang paling sedikit disukai siswa kelas 5 adalah . . .
7. Selisih anak yang gemar bersepeda dan berenang adalah . . .
8. Selisih anak yang gemar membaca dan sepakbola adalah . . .
9. Jumlah anak yang gemar menggambar dan bersepeda adalah . . .
10. Jumlah seluruh siswa kelas 5 berdasarkan gambar diagram di atas adalah . . .

# MEMBACA DIAGRAM

Nama:

Kelas:

Data Buah Kesukaan Siswa Kelas 5 SD Negeri Maju Jaya



Jawablah pertanyaan di bawah ini dengan benar!

1. Jumlah anak yang menyukai apel adalah . . .
2. Jumlah anak yang menyukai semangka adalah . . .
3. Jumlah anak yang menyukai jeruk adalah . . .
4. Jumlah anak yang menyukai anggur adalah . . .
5. Buah yang paling banyak disukai siswa kelas 5 adalah . . .
6. Buah yang paling sedikit disukai siswa kelas 5 adalah . . .
7. Selisih anak yang menyukai apel dan duku adalah . . .
8. Selisih anak yang menyukai strobery dan anggur adalah . . .
9. Jumlah anak yang menyukai semangka dan jeruk adalah . . .
10. Jumlah seluruh siswa kelas 5 berdasarkan gambar diagram di atas adalah . . .

# MENGUMPULKAN DATA

Nama:

Kelas:

## Data Tinggi Badan Kelas 5 SD Negeri Makmur

No.	Nama	Tinggi Badan (cm)	No.	Nama	Tinggi Badan (cm)
1	Sultan	138	11	Farhan	138
2	Nani	142	12	Rama	139
3	Dini	139	13	Nabila	142
4	Dika	138	14	Syifa	139
5	Mella	137	15	Mauren	137
6	Aisyah	139	16	Sita	142
7	Kayla	137	17	Naya	139
8	Wisnu	142	18	Mikaila	137
9	Joshua	137	19	Sohwa	139
10	Maya	137	20	Bima	137

Sajikan data di atas dalam bentuk tabel!

## Tinggi Badan Kelas 5 SD Negeri Makmur

Tinggi Badan (cm)	Turus	Jumlah Siswa

# MEMBUAT DIAGRAM GAMBAR

Nama:

Kelas:

Data Buah Kesukaan dari 40 Siswa Kelas 5 SD Negeri Sukamaju



Buatlah tabel dari data buah kesukaan siswa kelas 5 di atas!

Buah Kesukaan	Turus	Banyak Siswa
Jeruk		
Semangka		
Nanas		
Anggur		
Manggis		

Buatlah pictogram atau diagram gambar dari data di atas!

Data Buah Kesukaan Kelas 5 SD Negeri Sukamaju

Buah Kesukaan	Banyak Siswa

# MEMBUAT DIAGRAM BATANG

Nama:

Kelas:

Data Makanan Kesukaan dari 30 Siswa Kelas 5 SD Negeri Sukamaju



Buatlah tabel dari data buah kesukaan siswa kelas 5 di atas!

Tabel Makanan Kesukaan Siswa Kelas 5 SD Negeri Sukamaju

Makanan Kesukaan	Turus	Banyak Siswa
Bakso		
Mie Ayam		
Nasi Goreng		
Seblak		
Soto		

Buatlah diagram batang dari tabel makanan kesukaan siswa kelas 5 di atas!

Data Makanan Kesukaan Siswa Kelas 5 SD Negeri Sukamaju

