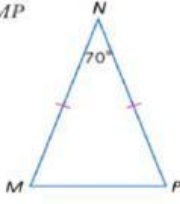


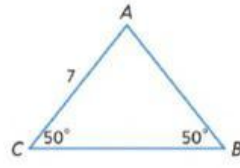
المثلثات متساوية الساقين ومتساوية الأضلاع

نواتج التعلم

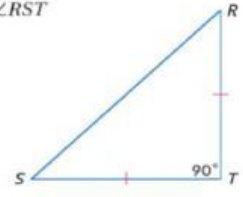
16. $m\angle NMP$



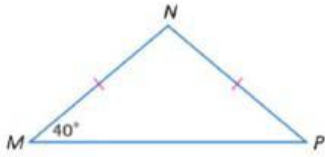
14. AB



17. $m\angle RST$



4. $m\angle MPN$



3. DE



20.

