

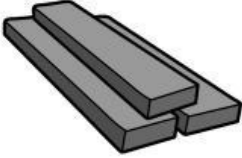




MENENTUKAN UNSUR, SENYAWA DAN CAMPURAN








Tentukan Zat di bawah ini mana yang termasuk unsur, senyawa, dan campuran!

| Gambar zat | Contoh zat | Jenis zat |
|---|----------------|-----------|
|  | Minyak dan Air | |
|  | Air | |
|  | Besi | |
|  | Susu | |
|  | Emas | |

MENENTUKAN UNSUR, SENYAWA DAN CAMPURAN



Tentukan Zat di bawah ini mana yang termasuk unsur, senyawa, dan campuran!

| Gambar zat | Contoh zat | Jenis zat |
|---|------------|-----------|
|  | Garam | |
|  | Gula | |
|  | Es Campur | |
|  | Cuka | |
|  | Oksigen | |

MENENTUKAN UNSUR, SENYAWA DAN CAMPURAN



Tentukan Zat di bawah ini mana yang termasuk unsur, senyawa, dan campuran!

| Gambar zat | Contoh zat | Jenis zat |
|---|-----------------|-----------|
|  | Teh manis | |
|  | Tinta | |
|  | Karbon dioksida | |
|  | Jus mangga | |
|  | Hidrogen | |