

تقييم ختامي (ما المقصود بالتيار الكهربائي ؟)

يشرح أوجه الاختلاف بين الكهرباء الساكنة و التيار الكهربائي.

الهدف التعليمي

السؤال الأول : أكمل الفراغات التالية بالكلمة المناسبة :

التيار الكهربائي - دائرة التوالي - دائرة التوازي - المغلقة

1- يتدفق التيار الكهربائي عبر الدارة

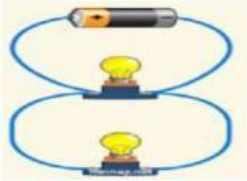
2- يسمى تدفق التيار الكهربائي في نفس الاتجاه على امتداد مسار واحد باسم

3- حركة الشحنات الكهربائية تسمى

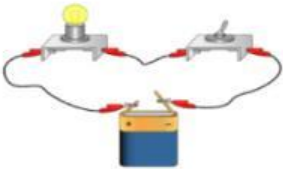
4- يسمى تدفق التيار الكهربائي على مسارات منفصلة تصل كل حمل بمصدر

الطاقة لديه باسم

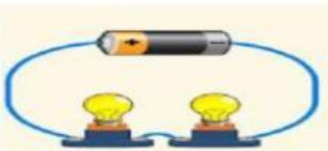
السؤال الثاني : صل بين المفردة والصورة التي توضحه



دائرة التوالي



دائرة التوازي



دائرة كهربائية