

الاسم:

مملكة البحرين
وزارة التربية والتعليم
قسم الرياضيات

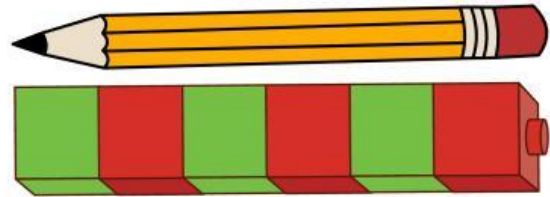


١٠


٢

السؤال الأول: كم مكعبًا  يبلغ طول القلم؟

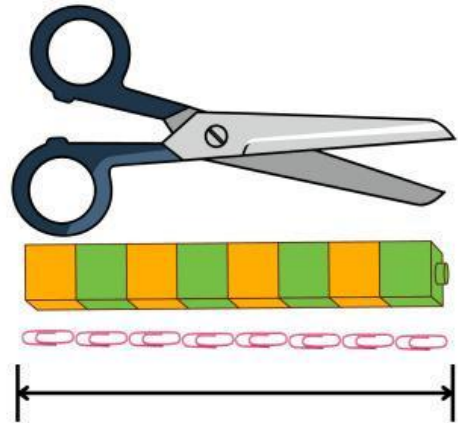
طول القلم مكعبات 



٣

السؤال الثاني: كم مشبكًا ورقيًا  يبلغ طول المقص؟

طول المقص مشابك ورقية 



٥

السؤال الثالث: لدى محسن ثلاث أوراق نقدية من فئة ٥ دنانير، فإذا أراد أن يشتري ٤ عطور، وكان سعر العطر الواحد ٤ دنانير. فهل تكفي النقود التي معه؟ فسّر إجابتك مستعملًا الشبكة.

طول القلم مشابك ورقية 

