

## 11.1 وحدة القياس - تقدير السعة

ما كمية المياه الموجودة في كل وعاء. اختر الإجابة




1



\_\_\_\_\_



2



\_\_\_\_\_




3



\_\_\_\_\_

4



\_\_\_\_\_




5



\_\_\_\_\_




6



\_\_\_\_\_


7



\_\_\_\_\_



8



\_\_\_\_\_

