

SOAL SURVEY KARAKTER

1. Arkan memiliki teman sebangku di kelas bernama Lia. Selama di sekolah, Arkan sering mendapatkan ejekan dari teman-temannya karena berbadan lebih gemuk dari kebanyakan siswa. Lia kasihan pada Arkan. Namun, Lia khawatir jika menolong Arkan, ia akan dijauhi oleh teman-teman lainnya. Tindakan yang seharusnya dilakukan Lia adalah...

- A. Bersikap tidak peduli pada nasib Arkan
- B. Menjaga Jarak dengan Arkan
- C. Mencari teman sebangku lainnya
- D. Membela Arkan dan menasihati teman-teman lain

2. Suatu hari, ada empat anak sekelas belajar Bersama. Mereka adalah Sandi, Aldi, Alvin, dan Vina. Mereka belajar bersama mengerjakan PR matematika. Alvin tidak kesulitan mengerjakan soal sehingga selesai lebih dahulu dari teman-temannya. Sandi, Aldi, dan Vina masih belum selesai. Vina bahkan mengaku kebingungan saat hendak jawab soal matematika. Tindakan yang tepat dilakukan oleh Alvin adalah.....

- A. Menonton TV bersama-sama ketiga temannya
- B. Bermain hape bareng Sandi, Aldi, dan Vina
- C. Mengajak Sandi, Aldi, dan Vina bermain
- D. Menanyakan apa kebingungan temannya, dan mengajarkan apa yang dia bisa.

3. Feni berusaha meminta orang tuanya membeli sepeda agar dia bisa bersepeda bareng teman-temannya yang lain. Karena tidak punya sepeda, Feni sering kali minder. Namun, orang tuanya mengaku belum punya uang untuk membeli sepeda. Sikap Feni yang tepat adalah....

- A. Marah pada orang tuanya
- B. Merengek terus agar dibelikan sepeda
- C. Bersabar dan bersyukur dengan semua yang dia punya
- D. Berusaha membujuk temannya agar mau meminjamkan sepeda

4. Yono sering mengalami kesulitan saat pelajaran Bahasa Inggris. Dibanding teman-teman sekelasnya, Yono paling kesulitan saat menjawab soal-soal Bahasa Inggris. Apa yang harus dilakukan oleh Yono?

- A. Tidak peduli dengan pelajaran Bahasa Inggris
- B. Pasrah dan ikhlas
- C. Rajin bertanya kepada teman dan guru
- D. Diam dan menangis

5. Adi bertemu dengan Veni di taman kota. Keduanya bersekolah di tempat yang sama. Namun, mereka belum pernah saling berbicara sebelumnya. Sikap Adi terhadap Veni yang baik adalah....

- A. menyapa apabila Veni menghampirinya
- B. menghindari Veni karena belum terlalu mengenalnya
- C. menghampiri Veni dan mengajaknya berbicara
- D. meminta bantuan teman agar diperkenalkan kepada Veni

6. Di kelas Andi, sedang ada diskusi tentang cara memilah sampah yang benar. Guru mempersilakan setiap siswa untuk menyampaikan pendapatnya. Andi ingin sekali menyampaikan pendapatnya, tetapi dia ragu dengan pendapatnya sendiri. Tindakan apa yang seharusnya dilakukan Andi?

- A. Tetap menyampaikan pendapatnya daripada diam
- B. Memastikan kebenaran pendapatnya dengan tanya ke teman, baru berbicara
- C. Mengurungkan niat untuk menyampaikan pendapatnya
- D. Meminta teman sebangku untuk menyampaikan pendapatnya

7. Banyak konten di internet tidak layak dilihat anak-anak. Sebagai siswa SD, apa yang seharusnya kita lakukan saat mengakses internet di hape maupun laptop?

- A. Melihat semua yang tersaji di internet
- B. Menjauhi internet
- C. Bermain game sepuasnya
- D. Mengakses internet saat didampingi orang tua

8. Asep adalah seorang muslim. Dia memiliki teman bernama Anton yang beragama Katholik. Saat Idul Fitri, Anton mengucapkan selamat hari raya kepada Asep. Sikap Asep yang tepat adalah.....

- A. Tidak menghiraukan ucapan Anton
- B. Tidak membalas ucapan Anton
- C. Berterima kasih kepada Anton atas ucapan selamat hari rayanya
- D. Mengadukan Anton kepada guru

9. Ayah Aldi adalah petani. Saat panen, ayahnya meminta Aldi membantu di sawah. Namun, Aldi ingin bermain sepak bola karena sudah janji bertemu di lapangan dengan teman-temannya. Sikap Aldi yang tepat adalah....

- A. Meminta ayahnya bekerja sendiri karena Aldi merasa tidak bisa membantu
- B. Membantu ayahnya sebisanya dan membatalkan janji dengan teman-temannya secara sepihak
- C. Mencari-cari alasan agar tidak perlu ke sawah
- D. Membantu ayahnya di sawah dan mengabari teman-temannya untuk membatalkan janji.

10. Rumah Tania mendapat giliran menjadi tempat belajar kelompok. Saat ia dan teman-temannya sedang diskusi membahas pelajaran, adiknya yang masih balita menangis. Apa yang harus dilakukan oleh Tania?

- A. Memarahi adiknya agar tidak menangis lagi
- B. Mengajak teman-temannya menjauh agar tidak terganggu tangisan adiknya
- C. Menenangkan adiknya agar tidak menangis, lalu Kembali belajar bersama
- D. Menyuruh teman-temannya pulang

11. Pak Agus mempunyai rumah kosong berada di perkampungan penduduk. Rumah itu dimanfaatkan untuk pabrik pembuatan tahu. Banyak sekali karyawan yang bekerja di situ. Setiap jam datang dan pulang kerja selalu ramai hingga mengganggu ketenangan tetangga. Bau dari limbah tahu pun mengganggu warga di kampung tersebut. Warga melakukan protes karena terganggu dengan keramaian para karyawan dan pencemaran dari limbah tahu. Tindakan yang harus dilakukan oleh Pak Agus adalah

- A. bermusyawarah dengan warga kampung untuk menyelesaikan permasalahan
- B. Memberi ganti rugi setiap bulan kepada warga yang terdampak
- C. Menempuh jalur hukum karena dia bebas melakukan apapun di rumahnya
- D. Membuang limbah tahu ke sungai

12. Kamu memiliki seorang teman yang berlainan agama dengan kamu. Di hari ulang tahunnya, kamu diundang untuk menghadiri acara pesta ulang tahunnya. Tindakan yang kamu lakukan adalah

- A. tidak datang menghadirinya
- B. menolak dengan cara halus bahwa kamu ada acara lain
- C. memenuhi undangannya
- D. memberi ucapan melalui whatsapp

13. Wiena akan mengikuti ujian sekolah dalam waktu dekat. Selama ini, prestasi Wiena biasa-biasa saja, tetapi ia ingin menyenangkan hati orang tuanya dengan mendapat nilai terbaik pada ujian sekolahnya. Apa yang seharusnya Wiena lakukan?

- A. Mempelajari materi pelajaran dan bertanya ke teman saat ujian
- B. Mempelajari mata pelajaran yang disukai saja
- C. Mempersiapkan diri untuk mengikuti ujian sekolah dengan usaha seadanya
- D. Mempersiapkan diri dengan belajar serius dan berdoa

14. Raphael adalah salah satu siswa yang mewakili sekolah untuk seleksi siswa prestasi di tingkat kota. Waktu untuk mempersiapkan diri mengikuti seleksi hanya satu minggu. Apa yang harus dilakukan Raphael?

- A. Menunggu guru pembimbing yang akan membimbingnya
- B. Mencari informasi tentang seleksi siswa prestasi ala kadarnya
- C. Tetap mengikuti seleksi dengan informasi yang minim
- D. Mencari info dari siswa lain yang pernah ikut seleksi siswa prestasi tingkat kota

15. Pengurus RW 8 akan mengadakan bazar Ramadhan yang diikuti oleh semua RT. Stan dengan pengunjung terbanyak akan mendapat penghargaan dari RW. Bu Nurlaila sebagai duta RT 02 akan mewakili kegiatan bazar itu. Strategi apa yang harus dilakukan oleh Bu Nurlaila?

- A. Meniru stand bazar tahun lalu yang mendapat penghargaan
- B. Bertanya kepada peserta tahun lalu yang mendapat penghargaan
- C. Melakukan survei untuk mencari tahu tema bazar yang banyak diminati
- D. Membuat bazar mukena dengan asumsi banyak yang membutuhkan

16. Sebagai siswa, kita harus rajin belajar. Jika tidak menerapkan tanggung jawab untuk belajar, kita akan..., kecuali ...

- A. Tidak bisa menguasai pelajaran dengan baik
- B. Mendapat teman semakin banyak
- C. Mendapat nilai jelek
- D. Abai terhadap tugas dari guru

17. Saat pemilihan ketua kelas, tidak ada siswa yang berani mencalonkan diri. Namun, Naufal memberanikan diri untuk menjadi ketua kelas. Hal yang seharusnya dilakukan oleh Naufal adalah....., kecuali:

- A. Mengajak semua teman di kelas diskusi untuk bahas pemilihan ketua kelas
- B. Mengajak teman-temannya untuk mencalonkan diri kepada wali kelas
- C. Mengajukan diri karena merasa mampu menjadi ketua kelas
- D. Tidak merespons kegiatan pemilihan ketua kelas sama sekali

18. Orang yang tidak berpihak kepada salah seorang yang berselisih, dan selalu berpihak kepada yang benar, akan....., kecuali...

- A. Melakukan sesuatu yang patut diteladani.
- B. Membantu orang yang satu suku saja.
- C. Membantu orang yang benar-benar membutuhkan.
- D. Tidak sewenang – wenang.

19. Andri ingin menjelaskan alasan yang sebenarnya ketika dia terlambat masuk sekolah. Namun, beberapa teman menyarankan untuk berbohong, sedangkan teman yang lainnya menyarankan untuk berkata jujur. Saran dari teman-temannya membuat dia bingung. Hal-hal yang harus dilakukan oleh Andri adalah....., kecuali.....

- A. Melakukan hal yang disukai teman-temanya
- B. Menerapkan ajaran agama
- C. Berani mengakui kesalahan
- D. Jujur dalam perkataan dan perbuatan

20. Saat tahun ajaran baru akan dimulai, semua guru, siswa, tenaga administrasi, hingga pesuruh sekolah mempersiapkan diri. Mereka tidak henti-hentinya melakukan ..., kecuali:

- A. Mempersiapkan pekerjaan
- B. Membersihkan atau membenahi sekolah
- C. Membenahi administrasi
- D. Bersantai-santai

21. Dina merupakan siswi yang pandai di sekolahnya. Kegigihan Dina dalam belajar membuahkan hasil yang membanggakan yaitu selalu mendapatkan nilai maksimal dan menjadi peringkat pertama di sekolah. Setiap hari Dina tidak pernah lupa atas kewajibannya sebagai siswa yaitu belajar dan mengerjakan tugas sekolah. Setelah belajar, kebiasaan Dina selalu membereskan buku dan alat tulisnya. Kemudian Dina memeriksa jadwal, menyiapkan buku dan menyiapkan peralatan yang harus dibawa ke sekolah. Tujuan dari kebiasaan Dina adalah....

- A. Agar dapat tidur dengan nyenyak
- B. Agar mendapat pujian dari ibu guru
- C. Agar mendapat pujian dari orang tua
- D. Agar tidak ada buku dan peralatan yang tertinggal

22. Silvi dan Salma adalah sahabat sejati. Pada sore hari mereka bermain boneka di taman dekat rumah. Mereka bermain boneka sambil berlari-lari. Tanpa sengaja, Salma menjatuhkan boneka kesayangan Silvi, sehingga boneka Silvi jatuh ke selokan dan kotor. Salma pun takut karena boneka itu adalah boneka pemberian Ibu Silvi tercinta. Tindakan yang benar untuk Silvi lakukan adalah....

- A. Meminta Salma untuk membelikan boneka yang baru.
- B. Mengambil boneka bersama-sama kemudian membersihkannya.
- C. Memarahi Salma karena bonekanya kotor.

- D. Menyuruh Salma untuk mengambil boneka tersebut dan membersihkannya.

23. Aldo adalah siswa kelas 5 SD. Saat istirahat sekolah, Aldo suka pergi ke perpustakaan untuk membaca buku cerita. Namun, ketika melewati lorong menuju perpustakaan, Aldo melihat beberapa bungkus makanan berserakan di lorong tersebut. Kemudian Aldo segera mengambilnya dan membuangnya ke tempat sampah. Tindakan tersebut menunjukkan bahwa Aldo....

- A. Melakukan suatu tindakan yang bukan merupakan tugas dan kewajibannya.
- B. Tidak peduli terhadap kebersihan lingkungan di sekolah.
- C. Peduli terhadap kebersihan lingkungan sekolah serta melaksanakan kewajibannya dalam menjaga kebersihan lingkungan sekolah.
- D. Tidak peduli terhadap bungkus makanan yang berserakan di lorong sekolah.

24. Ayah Novi sedang mengalami kesulitan ekonomi karena tokonya bangkrut. Kondisi ini berdampak pada uang jajan yang diterima oleh Novi. Sikap Novi yang tepat adalah....

- A. Menggunakan uang yang diberi ayah untuk hal yang bermanfaat
- B. Tidak mau menerima uang dari ayah
- C. Meminta ibu agar ikut bekerja membantu ayah
- D. Mendesak ayah agar bekerja lebih keras

25. Pada musim hujan, banyak teman kamu yang sakit dan tidak bisa masuk kelas. Sikap yang dapat kamu lakukan sebagai teman adalah....

- A. Ikut tidak masuk kelas
- B. Menyalahkan musim hujan
- C. Menjenguk teman dan menjaga kesehatan sendiri
- D. Mengajak teman-teman bermain saat hujan

26. Bayu baru saja dirawat di Rumah Sakit. Setelah 3 hari dirawat, ia dinyatakan sembuh oleh dokter. Ia diberi resep obat dan diminta menghindari makanan tertentu agar sakitnya tidak kambuh. Sikap yang seharusnya Bayu lakukan adalah....

- A. Mematuhi anjuran dokter
- B. Minum obat seperlunya
- C. Makan apa saja yang diinginkan
- D. Langsung bermain di luar Bersama teman-temannya

27. Sekolah Edo akan menyelenggarakan pameran barang kerajinan tangan. Edo diberi tugas membuat karya kerajinan sesuai minatnya. Sikap yang seharusnya dilakukan oleh Edo adalah....

- A. Mengabaikan tugas karena malas bikin kerajinan tangan
- B. Berusaha membuat kerajinan tangan dengan belajar dari tutorial di youtube
- C. Membuat kerajinan tangan ala kadarnya
- D. Membeli kerajinan tangan di toko

28. Bermain game online bersama teman-teman selalu menyenangkan. Namun, guru meminta kamu membatasi aktivitas bermain game online agar ada waktu untuk belajar. Apa yang akan kamu lakukan?

- A. Tetap sering bermain game dengan teman-teman

- B. Bermain game lebih sering lagi dari sebelumnya
- C. Bermain game sambil belajar di rumah
- D. Membagi waktu belajar dan game secara seimbang

29. Ketika sedang berlangsung sholat dzuhur di mushola sekolah, teman-teman Adi bermain kejar-kejaran di dekat mushola. Mereka berteriak-teriak sambil tertawa-tawa tanpa menghiraukan anak-anak yang sedang beribadah di mushola. Tindakan yang seharusnya dilakukan Adi dalam menghadapi situasi seperti itu adalah ...

- A. ikut bermain kejar-kejaran.
- B. melihat teman-temannya yang sedang bermain kejar-kejaran.
- C. menasihati teman-temannya agar tidak bermain kejar-kejaran karena mengganggu orang yang sedang beribadah.
- D. menegur dengan kasar teman-temannya untuk tidak bermain kejar- kejaran.

30. Fandi adalah siswa SD. Bu guru menasihati Fandi untuk memangkas rambutnya karena sudah panjang melebihi batas telinga. Namun, Fandi tidak mau potong rambut karena malas. Sikap Fandi seharusnya adalah

- A. Tetap bersikeras tidak mau memangkas rambut
- B. Meminta pendapat ibunya, dan mematuhi apa pun perkataan ibu.
- C. Mematuhi perintah guru
- D. Menunggu perintah Bu Guru yang kedua kalinya

LATIHAN SOAL TKA MATEMATIKA
UNTUK SEKOLAH DASAR (SD)

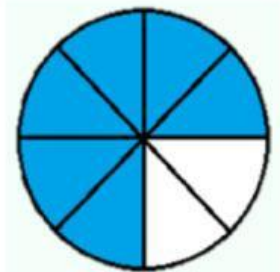
Mata Pelajaran	: Matematika	Jumlah Soal	: 30 Pilihan Ganda
Kelas	: 6 (Enam)	Waktu	: 90 Menit

Nama : Hari/Tanggal :




Kelas :

Berilah tanda silang (X) pada huruf A, B, C, atau D yang benar!

1. Perhatikan gambar berikut!



Pecahan yang senilai dengan pecahan pada gambar tersebut adalah ..



2. Rini, Ayaka, dan Diah membeli pita di toko Rejeki. Sekarang, Rini mempunyai $\frac{7}{15}$ m pita, Ayaka mempunyai $\frac{12}{25}$ m pita, dan Diah mempunyai $\frac{15}{30}$ m tali.
Berdasarkan informasi tersebut, tentukan **Benar** atau **Salah** untuk setiap pernyataan berikut!

Pernyataan		Benar	Salah
1	Rini mempunyai pita yang lebih panjang dari pita Ayaka.		
2	Diah mempunyai pita yang lebih panjang dari pita Rini.		
3	Ayaka mempunyai pita yang lebih pendek dari pita Diah.		

3. Murid kelas VI menyukai buku berbeda-beda. Sebanyak $\frac{7}{20}$ suka buku novel, sebanyak $\frac{3}{12}$ suka buku cerpen, 18% suka buku biografi, dan sisanya suka buku ilmiah. Urutan buku dari yang paling banyak disukai murid kelas VI adalah
- novel, ilmiah, cerpen, biografi
 - novel, ilmiah, biografi, cerpen.
 - novel, cerpen, biografi, ilmiah
 - novel, cerpen, ilmiah, biografi.

4. Diketahui:

$$a = 2\frac{12}{15}, b = \frac{160}{90}, \text{ dan } c = 0,125$$

Berdasarkan informasi tersebut, manakah pernyataan berikut yang benar?

Jawaban benar lebih dari satu

	Bentuk pecahan desimal dari a adalah 2,8.
	Pecahan campuran dari b adalah $1\frac{7}{9}$
	Bentuk persen dari c adalah 125%.

5. Hasil dari $\frac{4}{6} + \frac{7}{15} - \frac{3}{20} - \frac{9}{60}$ adalah ...

- $\frac{2}{3}$
- $\frac{4}{5}$
- $\frac{5}{6}$
- $\frac{9}{10}$

6. Perhatikan gambar berikut!



Adit membeli snack rumput laut yang dikemas dalam kotak. Setiap kotak berisi $\frac{9}{16}$ kg rumput laut. Adit akan membagikan seluruh snack rumput laut tersebut dalam bentuk toples besar. Setiap toples besar dapat menampung $\frac{3}{2}$ kg snack rumput laut. Berapa banyak toples besar yang dibutuhkan oleh Adit?

- A. 2
- B. 3
- C. 4
- D. 6

7. Pada bulan Desember 2025, terdapat beberapa kendaraan yang melintasi jalan Merdeka Jaya. Ada 539 sepeda listrik, 19.138 sepeda motor, 10.354 mobil, dan 696 micro bus yang melintasi jalan tersebut. Berdasarkan informasi tersebut, tentukan **Benar** atau **Salah** untuk setiap pernyataan berikut!

	Pernyataan	Benar	Salah
1	Ada sebanyak 19.687 kendaraan roda dua yang melintasi jalan Merdeka Jaya pada bulan Desember 2025.		
2	Ada sebanyak 11.050 kendaraan roda empat yang melintasi jalan Merdeka Jaya pada bulan Desember 2025.		
3	Ada sebanyak 30.627 kendaraan yang melintasi jalan Merdeka Jaya pada bulan Desember 2025.		

8. Perhatikan gambar berikut!



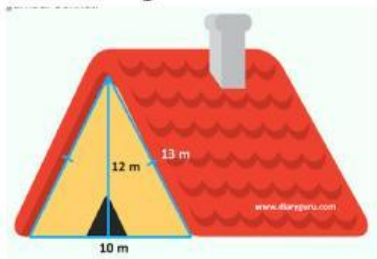
Ketiga lampu tersebut menyala bersamaan pada pukul 13.00 WITA!

Berdasarkan informasi tersebut, tentukan **Benar** atau **Salah** untuk setiap pernyataan berikut!

Pernyataan		Benar	Salah
1	Lampu merah menyala kembali pada pukul 13.45 WITA		
2	Lampu kuning dan merah menyala bersama-sama pada pukul 13.24 WITA		
3	Lampu hijau, merah, dan kuning menyala bersama-sama pada pukul 13.30 WITA		

9. Linda mempunyai 12 boneka beruang dan 18 boneka sapi. Boneka-boneka tersebut akan dimasukkan ke dalam kardus dengan jumlah yang sama. Berapa banyak kardus yang dibutuhkan Linda?
- A. 3 kardus
 B. 4 kardus
 C. 6 kardus
 D. 7 kardus

10. Perhatikan gambar berikut!

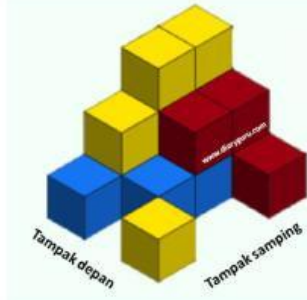


Wayan memiliki bagian atas rumah seperti gambar tersebut .
 Berdasarkan informasi tersebut, manakah pernyataan berikut yang benar?
 Jawaban benar lebih dari satu

	Luas bagian atas rumah Wayan adalah 60 m^2 .
	Keliling bagian atas rumah Wayan adalah 25 m
	Bagian atas rumah Wayan berbentuk segitiga sama kaki.

11. Mayoni memotong kertas karton menjadi segiempat yang hanya mempunyai sepasang sisi sejajar. Potongan kertas tersebut berbentuk
- A. Trapesium
 B. Jajargenjang
 C. Belah ketupat
 D. Layang-layang

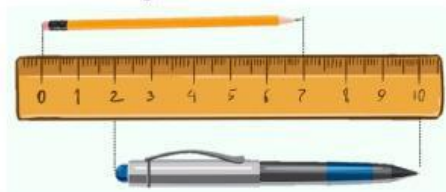
12. Perhatikan gambar berikut!



Azka menyusun beberapa balok menjadi seperti gambar tersebut. Berdasarkan informasi tersebut, tentukan Benar atau Salah untuk setiap pernyataan berikut!

Pernyataan		Benar	Salah
1	Terlihat 3 kotak berwarna biru jika tumpukan balok dilihat dari samping.		
2	Kotak berwarna kuning lebih banyak jika tumpukan balok dilihat dari atas dibanding jika dilihat dari depan.		
3	Kotak terlihat lebih sedikit jika tumpukan balok dilihat dari samping dibanding jika dilihat dari atas.		

13. Perhatikan gambar



Selisih panjang pulpen dan pensil adalah


- A. 1 cm
- B. 2 cm
- C. 4 cm
- D. 5 cm

14. Divya, Kirana, dan Dafina memiliki pita yang panjangnya berbeda-beda. Panjang pita Divya 3,2 m, pita Kirana 2.400 cm, dan pita Dafina 40 dm. Berdasarkan informasi tersebut, manakah pernyataan berikut yang benar?

Jawaban benar lebih dari satu

	Pita Dafina lebih panjang daripada pita Divya.
	Pita Kirana lebih pendek daripada pita Divya
	Jika pita Kirana dan Dafina digabungkan, maka panjangnya 28 m.

15. Perhatikan gambar berikut!



Berdasarkan gambar tersebut, volume batu adalah

- A. 100 ml
 - B. 200 ml
 - C. 300 ml
 - D. 400 ml
16. Wahyu, Nova, Dipa adalah penjual susu kedelai. Wahyu mampu menjual 10l susu kedelai, Nova mampu menjual 1.000 ml susu kedelai, dan Dipa mampu menjual 12 dl susu kedelai.

Berdasarkan informasi tersebut, tentukan **Benar** atau **Salah** untuk setiap pernyataan berikut!

	Pernyataan	Benar	Salah
1	Nova menjual lebih banyak susu kedelai daripada Wahyu maupun Dipa.		
2	Jumlah susu kedelai yang dijual Nova dan Dipa adalah 2,2l		
3	Dipa paling sedikit menjual susu kedelai.		

17. Perhatikan gambar berikut!



Berapa berat badan anak tersebut?

- A. 70 kg
- B. 71 kg
- C. 72 kg
- D. 73 kg

18. Made memiliki 3 kantong yang isinya berbeda-beda. Kantong 1 berisi kapas dengan berat 1 kg. Kantong 2 berisi bawang yang beratnya 10.000 dg. Kantong 3 berisi cabai dengan berat 120.000 mg.

Berdasarkan informasi tersebut, manakah pernyataan berikut yang benar?

Jawaban benar lebih dari satu

<input type="checkbox"/>	Kantong 1 dan kantong 2 memiliki berat yang sama.
<input type="checkbox"/>	Kantong 1 lebih ringan dari kantong 3
<input type="checkbox"/>	Kantong 2 lebih berat dari kantong 3

19. Viska berangkat dari rumah menuju ke lapangan tenis. Dia memerlukan waktu 1 jam 16 menit untuk perjalanan ke sana (tanpa berhenti). Ternyata, Viska berhenti sebentar di toko untuk membeli susu selama 18 menit. Viska berangkat pukul 06.45 WITA.

Kapan Viska sampai di lapangan tenis?

- A. 08.15 WITA
 - B. 08.17 WITA
 - C. 08.19 WITA
 - D. 08.21 WITA
20. Hasil dari 6 lustrum + 3 windu + 2 dasawarsa adalah
- A. 52 tahun
 - B. 63 tahun
 - C. 74 tahun
 - D. 86 tahun

21. Komang mengendarai motor dengan kecepatan rata-rata 12 km/jam. Komang mulai mengendarai motor pukul 06.35.

Berdasarkan informasi tersebut, manakah pernyataan berikut yang benar?

Jawaban benar lebih dari satu.

<input type="checkbox"/>	Pukul 08.20, Komang sudah menempuh jarak 21 km.
<input type="checkbox"/>	Pukul 09.55, Komang sudah menempuh jarak 40 km
<input type="checkbox"/>	Pukul 10.15, Komang sudah menempuh jarak 45 km.

22. David berangkat ke sekolah dengan bersepeda. Jarak antara rumah David dengan sekolah adalah 2 km. David berangkat pukul 06.20 WIB dari rumah dan kecepatan rata-rata bersepeda 6 km/jam. Kapan David sampai di sekolah?

- A. 06.20 WIB
- B. 06.35 WIB
- C. 06.40 WIB
- D. 06.45 WIB

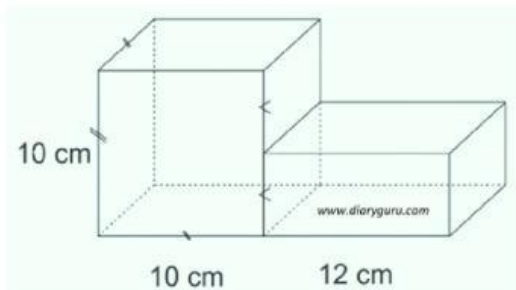
23. Perhatikan gambar berikut!



Gambar tersebut menyerupai salah satu bangun datar.
Berdasarkan informasi tersebut, tentukan **Benar** atau **Salah** untuk setiap pernyataan berikut!

Pernyataan		Benar	Salah
1	Kedua diagonalnya saling tegak lurus.		
2	Mempunyai dua pasang sudut sama besar.		
3	Mempunyai dua simetri lipat.		

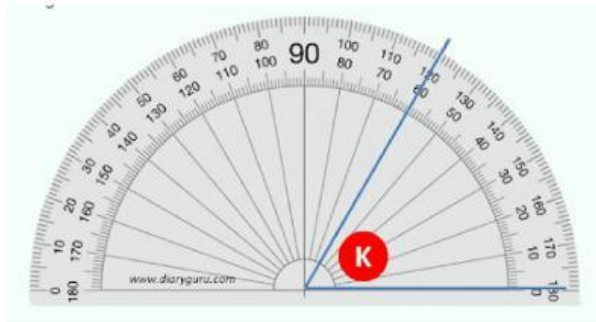
24. Perhatikan gambar berikut!



Berapa volume bangun ruang gabungan tersebut?

- A. 1.200 cm^3
- B. 1.600 cm^3
- C. 1.800 cm^3
- D. 2.000 cm^3

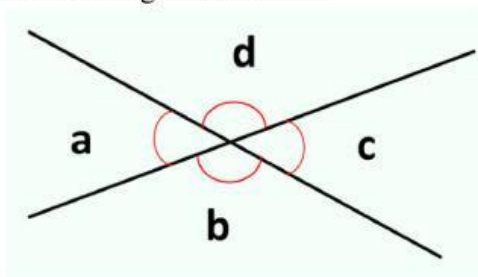
25. Perhatikan gambar berikut!



Berapa besar sudut K?

- A. 50°
- B. 60°
- C. 120°
- D. 180°

26. Perhatikan gambar berikut!



Besar sudut a pada gambar tersebut adalah 50° .

Berdasarkan informasi tersebut, manakah pernyataan berikut yang benar?

Jawaban benar lebih dari satu

	Besar sudut b = 140°
	Sudut c = sudut lancip
	Sudut a + sudut d = 180°

27. Perhatikan diagram batang berikut!

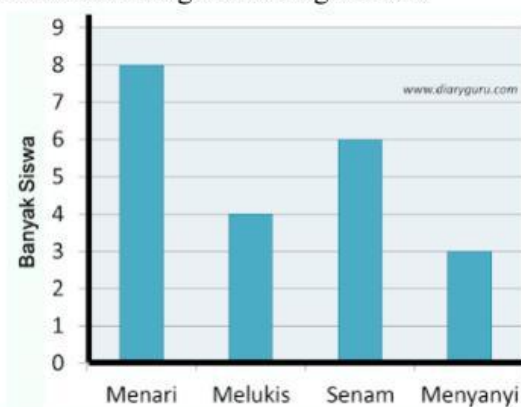


Diagram batang tersebut menunjukkan hobi siswa kelas VI SDN 6 Blahbatuh.