



LEVEL1NC- BÀI 4. VIẾT PHÉP TÍNH DỰA TRÊN HÌNH ẢNH

Họ và tên: _____

Ngày: _____

1. Điền số còn thiếu

30	31		33
----	----	--	----

7		9	10
---	--	---	----

45	46		48
----	----	--	----

22	23	24	
----	----	----	--

14		16	
----	--	----	--

2. Thực hiện phép tính

$2 + 5 - 4 = \square$

$8 + 2 - 5 = \square$

$3 + 5 + 2 = \square$

$7 + 2 - 3 = \square$

$7 + 2 - 4 = \square$

$6 - 1 + 2 = \square$


$8 - 3 + 4 = \square$

$2 - 1 + 9 = \square$


$9 - 2 + 1 = \square$

$9 - 3 + 5 = \square$

3. Dựa vào hình ảnh dưới đây, hãy viết phép tính phù hợp




--	--	--	--	--



--	--	--	--	--




--	--	--	--	--



--	--	--	--	--




--	--	--	--	--



--	--	--	--	--

4. Dựa vào hình ảnh dưới đây, hãy viết phép tính phù hợp




--	--	--	--	--




--	--	--	--	--



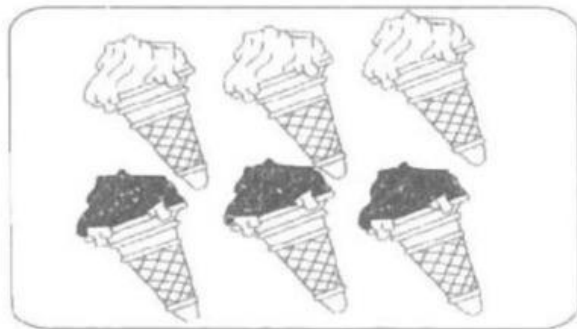
--	--	--	--	--



--	--	--	--	--



--	--	--	--	--



--	--	--	--	--

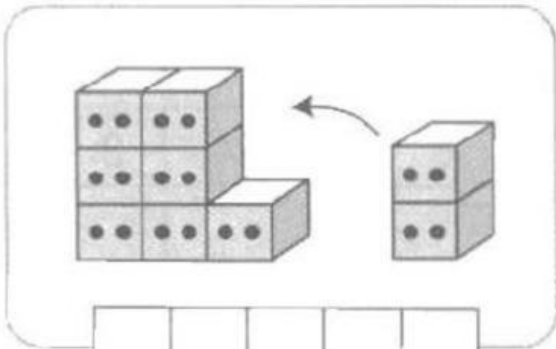
5. Dựa vào hình ảnh dưới đây, hãy viết phép tính phù hợp




--	--	--	--	--	--




--	--	--	--	--	--



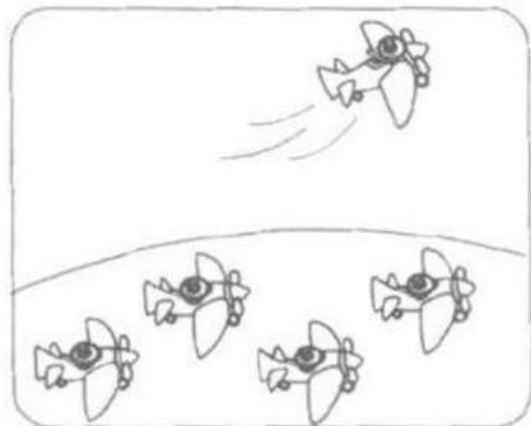
--	--	--	--	--	--



--	--	--	--	--	--



--	--	--	--	--	--



--	--	--	--	--	--