


Họ và tên: \_\_\_\_\_

Ngày: \_\_\_\_\_


1. Điền số thích hợp



.....CM



.....CM



.....CM



.....CM



.....CM



2. Đếm xuôi

30	.....	32	33	.....	.....
19	20	21	.....	23	.....
6	7	.....	.....	10	.....

3. Điền dấu >, <, =

13	___	15
----	-----	----

21	___	23
----	-----	----

32	___	34
----	-----	----

4	___	6
---	-----	---

18	___	20
----	-----	----

37	___	39
----	-----	----

26	___	28
----	-----	----

14	___	16
----	-----	----


7	___	9
---	-----	---

23	___	25
----	-----	----

4. Điền dấu + hoặc

$2 \square + 1 = 3$ 


$5 \square - 1 = 4$ 



$4 \square - 1 = 5$ 


$5 \square - 2 = 3$ 


$3 \square - 1 = 2$ 


$5 \square - 2 = 7$ 


$3 \square - 1 = 4$ 


$3 \square - 2 = 5$ 


5. Nói



$4 + 3 =$



$6 - 1 =$



$3 + 7 =$



$9 - 8 =$



$3 + 6 =$



$7 - 4 =$