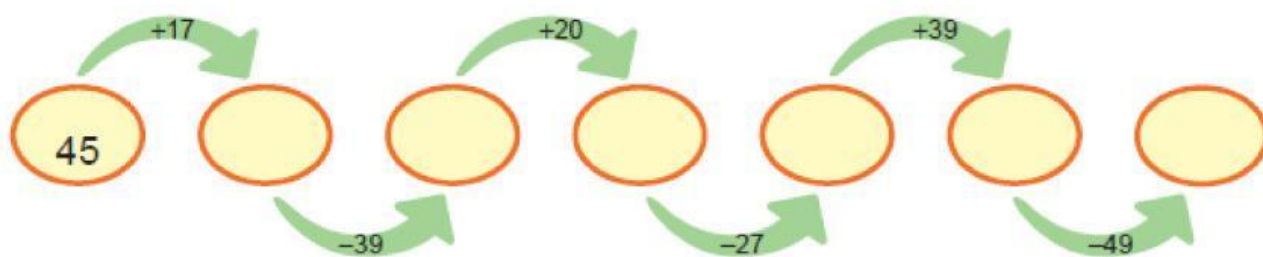
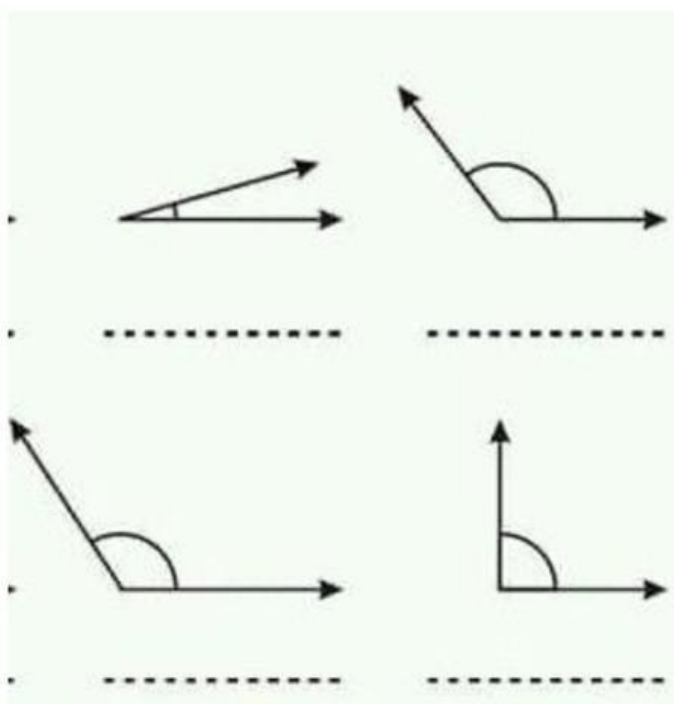


1. Үйлдлийг гүйцэтгээрэй.



2. Зөв байрлуулаарай.



Тэгш өнцөгт

Мохоо өнцөгт


Хурц өнцөгт







Мохоо өнцөгт

### 3. Тэгш тоонуудыг олоорой.

4	5	11	14
18	25	36	25
2	8	7	9
10	85	3	42

### 4. Харгалзуулаарай.

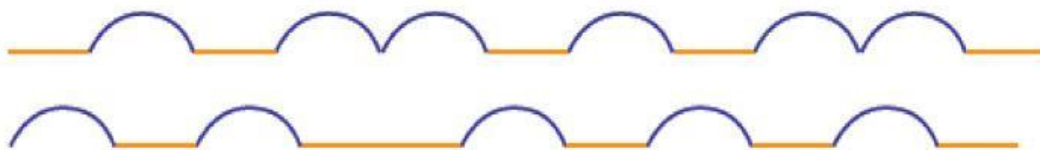
 цэг хэрчим тахир шугам гурвалжин дөрвөлжин дугуй




### 5. Хэн нь хол зам явсан бэ?

25 дм 

20 дм 



6. Дараах өгүүлбэр бүрийн үнэн, худлыг шалгаж, тэмдэглээрэй.

- а.  Энэ бол тойрог хэлбэртэй.  Үнэн  Худал  
Энэ бол дугуй хэлбэртэй.  Үнэн  Худал  
Энэ бол бөөрөнхий хэлбэртэй.  Үнэн  Худал
- б.  Энэ бол тойрог хэлбэртэй.  Үнэн  Худал  
Энэ бол дугуй хэлбэртэй.  Үнэн  Худал  
Энэ бол бөөрөнхий хэлбэртэй.  Үнэн  Худал
- в.  Энэ бол тойрог хэлбэртэй.  Үнэн  Худал  
Энэ бол дугуй хэлбэртэй.  Үнэн  Худал  
Энэ бол бөөрөнхий хэлбэртэй.  Үнэн  Худал

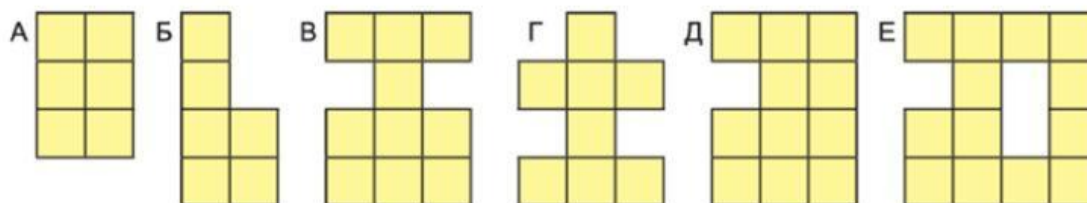
7. Тохирох тоог нөхөж тавиарай.

<b>+19</b>	
76	
53	
42	
49	
22	

8. Нийлбэр нь 25 гарах тоонуудыг олоорой.

12+13	14+13	18+17	17+8
20+5	14+16	16+13	9+8
17+17	14+11	16+15	24+1
13+12	21+3	21+4	21+5

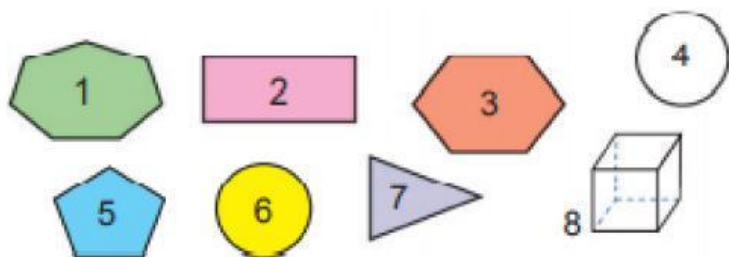
9. Хүүхдүүд  квадратыг өрж янз бүрийн дүрс бүтээжээ.



Дүрс бүр хэдэн квадратаас тогтож байна вэ? Тоог гүйцээж бичээрэй.

Дүрс	А	Б	В	Г	Д	Е
Квадратын тоо	6					

10. Дүрс биетийг хүснэгтэд ангилж байрлуулаарай.



Дөрвөн өнцөгт	Дөрвөн өнцөгт биш