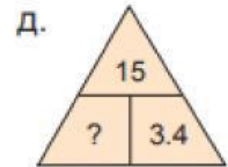
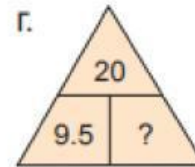
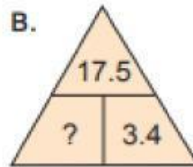
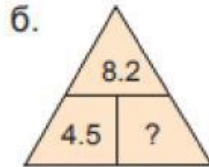
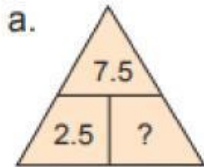


# 4-р ангийн дасгал ажил

1. Мэдэгдэхгүй байгаа гишүүнийг ол.

Нэмэгдэхүүн	85 091	77 841		5 506	
Нэмэгдэхүүн		56 788	56 743	342 100	
Нийлбэрийн утга	422 067		110 009		100 000

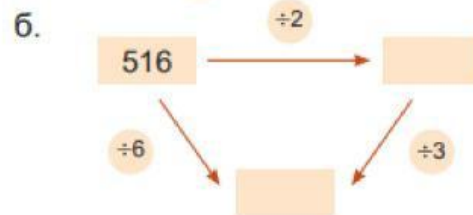
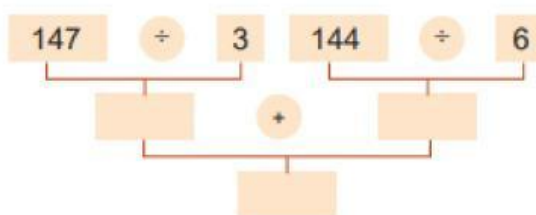
2. Асуултын тэмдгийн оронд тохирох тоонуудыг ол.



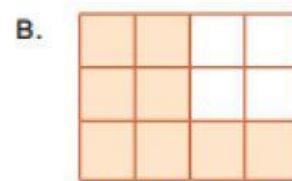
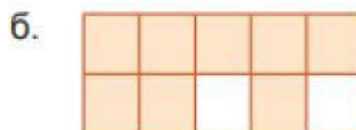
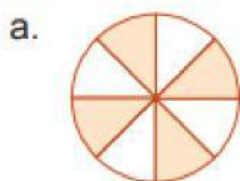
3. 3-д хуваагдах тоог олоорой.

×	1	2	3	4	5	6	7	8	9	10
1	1	2	3	4	5	6	7	8	9	10
2	2	4	6	8	10	12	14	16	18	20
3	3	6	9	12	15	18	21	24	27	30
4	4	8	12	16	20	24	28	32	36	40
5	5	10	15	20	25	30	35	40	45	50
6	6	12	18	24	30	36	42	48	54	60
7	7	14	21	28	35	42	49	56	63	70
8	8	16	24	32	40	48	56	64	72	80
9	9	18	27	36	45	54	63	72	81	90
10	10	20	30	40	50	60	70	80	90	100

4. Тоог нөхөж бич.



5. 0.8 бутархайг илэрхийлэх зургийн дугаарыг хэлээрэй.



6. 2100 төгрөгд тааруулж доорх зүйлсээс авна. Сонгож доорх хүснэгтэд зөөнө үү?

				
500 төг	1200 төг	200 төг	700 төг	400 төг

7. Мэдэгдэхгүй байгаа гишүүнийг ол.

 $\times 15 = 1170$	 $7 \times$  $= 1449$	
$9360 \div$  $= 4$	 $\div 6789 = 19$	 $\div 45 = 45$

8. Нэг савх хөдөлгөн зөв тэнцэтгэл болгоорой.  $24 + 36 = 58$

9. Тохирох шинжид нь зөөж тавиарай.

1, 2, 3, 4, 5, 6, 7, 8, 9, 10, 11, 12, 13, 14, 15, 16, 17, 18, 19, 20, 21, 22, 23, 24, 25, 26, 27, 28, 29, 30	Хуваагдах шинж	Тэгш	Сондгой
	5, 10 тоонуудад хуваагддаг тоонууд		
	5, 10 тоонуудад хуваагддаггүй тоонууд		

10. Зүй тогтлыг ажиглаж, гүйцээгээрэй.

