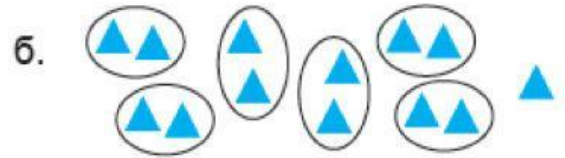


1. “Үлпэгдэлтэй хуваах” Зураглалд тохирсон бичиглэл хийгээрэй.



$$\square \times \square + \square = \square$$

$$\square \div \square = \square \text{ үлд } \square$$



$$\square \times \square + \square = \square$$

$$\square \div \square = \square \text{ үлд } \square$$



$$\square \div \square = \square \text{ үлд } \square$$



$$\square \div \square = \square \text{ үлд } \square$$

2. Хүснэгтийг гүйцээж бичээрэй.

Зуут	Аравт	Нэгж	Бичих	Унших
1	2	7	127	Нэг зуун хорин долоо
3	0	8		Гурван зуун найм
			496	
				Найман зуун арван гурав

3. 50-аас их тоо 50-аас бага тоог ангилж оруулан уу?

1	8	36	12	23	34	45	56
67	25	78	14	89	69	58	47

50-аас бага	50-аас их
1 ...	56 ...

4. Зургийг ажиглаад , тохирох тоог олоорой. Ижил дүрс нь ижил тоо байна.

a.

б.

5. Цагийг уншаад , хоосон зайг нөхөж бичээрэй .

			
10 цагаас ... минут өнгөрч байна.	3 цагаас ... минут өнгөрч байна.	1 цагаас ... минут өнгөрч байна.	8 цагаас ... минут өнгөрч байна.
11 цаг болоход ... минут дутуу байна.	4 цаг болоход ... минут дутуу байна.	2 цаг болоход ... минут дутуу байна.	9 цаг болоход ... минут дутуу байна.

6. Тохирох тоог нөхөөрэй.

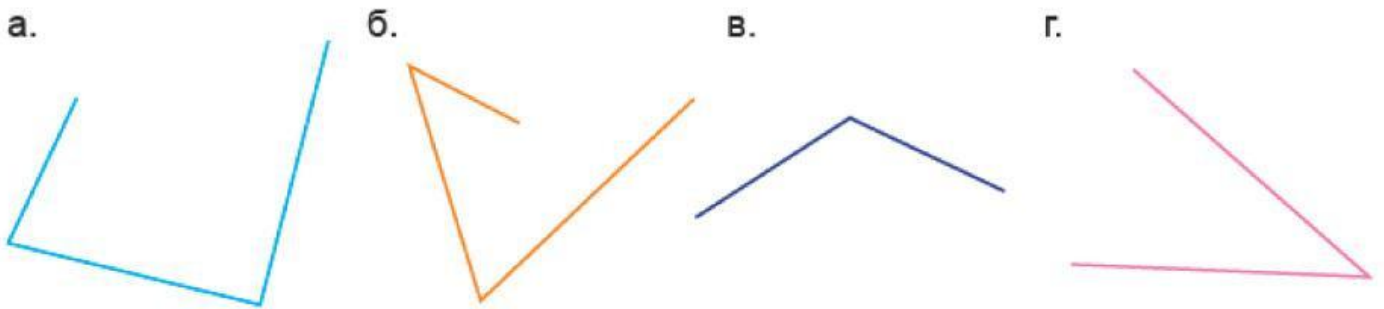
× 9	
7	63
4	
	72
9	

÷ 9	
81	9
63	
	5
27	

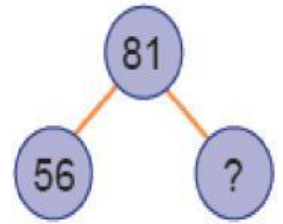
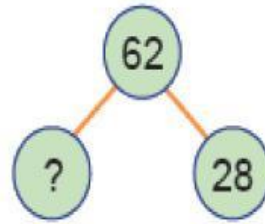
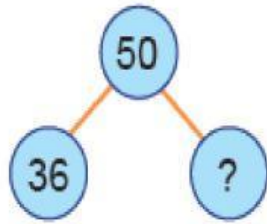
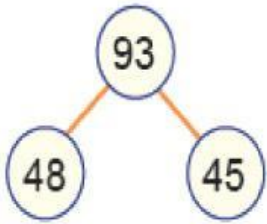
7. Аналоги цагийг уншаад , тохирох үйл явдалтай холбоорой . Аль цагт, ямар үйлийг хийж болох вэ?



8. Дөрвөн өнцөгт болгон гүйцээж зураарай.



9. Асуултын тэмдгийн оронд тохирох тоог олоорой.



10. Асуултын тэмдгийн оронд тохирох тоог бичээрэй.

