

Nombre _____ Grupo _____

LAS FRACCIONES COMO DIVISIONES



Observa el video
y contesta:



¿Qué es lo que estamos haciendo cuando dividimos una cantidad?
Elige la correcta

- ___ Estamos repartiendo esa cantidad.
- ___ Sumamos varias veces la cantidad.



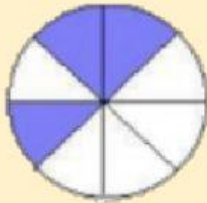
Elige verdadero o falso:

$$\frac{8}{4}$$


	VERDADERO	FALSO
Esta fracción la puedo leer como: "ocho cuartos"		
Esta fracción también significa "ocho entre cuatro"		
La fracción la puedo leer como: "cuatro octavos"		
Esta fracción equivale a: "dos enteros"		

Exprésalo con una fracción:

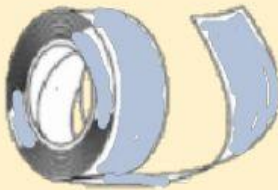
Quiero repartir un pastel en 8 rebanadas iguales y me comeré 3 de esas rebanadas:



Lupita compró 1 litro de leche, llenó 5 vasos y Juanito se tomó 2 de esos vasos:



Martina tiene un listón de 20 metros y quiere hacer 12 moños iguales, ¿qué parte de la cinta le tocará a cada moño?



Si los niños tienen una cuerda de 36 metros y la cortan en 5 pedazos iguales ¿cuánto medirá cada pedazo?



Tengo una caja de 36 colores y los repartiré entre 4 alumnos, ¿qué parte de los colores le tocará a cada alumno?



¿Qué parte del total de la estrella está sombreada?