
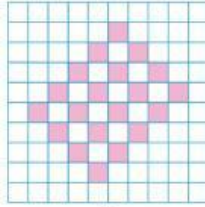


PHIẾU BÀI TẬP

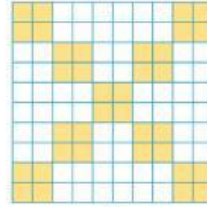
3 Sử dụng tỉ số phần trăm để biểu diễn phần đã được tô màu trong mỗi hình sau:




A



B



C



D

