

NOMBRE:

EXAMEN DE COMPUTACIÓN









Figuras tridimensionales de Paint 3D

Relaciona la imagen con su respectivo nombre.

	<input type="radio"/>	<input type="radio"/>	Cubo
	<input type="radio"/>	<input type="radio"/>	Tubo
	<input type="radio"/>	<input type="radio"/>	Esfera
	<input type="radio"/>	<input type="radio"/>	Cilindro
	<input type="radio"/>	<input type="radio"/>	Pirámide

Escribe el nombre de los botones de las formas 2D.

	<input type="text"/>
	<input type="text"/>
	<input type="text"/>
	<input type="text"/>
	<input type="text"/>
	<input type="text"/>

Relaciona os nombres de las fichas de Paint 3D con sus respectivos íconos.

	<input type="radio"/>	<input type="radio"/>	Adhesivos
	<input type="radio"/>	<input type="radio"/>	Texto
	<input type="radio"/>	<input type="radio"/>	Pinceles
	<input type="radio"/>	<input type="radio"/>	Formas 2D
	<input type="radio"/>	<input type="radio"/>	Formas 3D

Escribe el nombre de cada uno de los botones del grupo fuente de la ficha Inicio de Word.



- ①
- ②
- ③
- ④
- ⑤
- ⑥
- ⑦
- ⑧