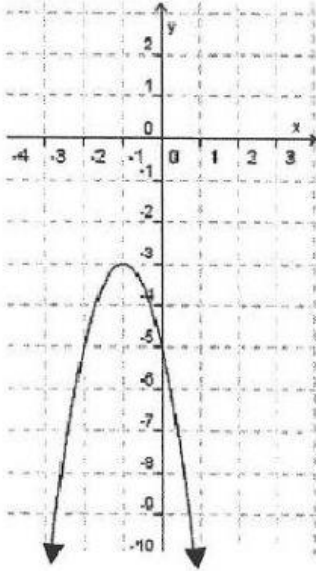




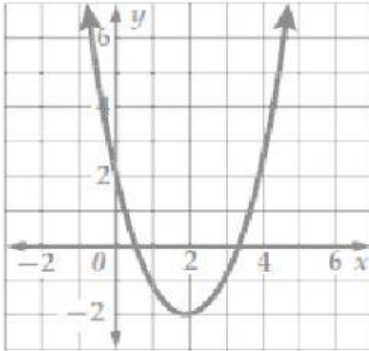
رياض 152 – تمثيل الدوال التربيعية بيانياً

الكفاية: تحديد معادلة محور التماثل للدالة التربيعية من التمثيل البياني

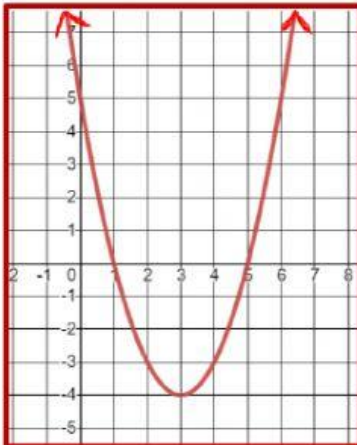
صل كل رسم بياني بمعادلة محور التماثل الصحيح:



$$x = 3$$



$$x = -1$$



$$x = 2$$

مديرة المدرسة: أ. سميرة آل خليفة

منسقة القسم: أ. سميرة مفتاح

إعداد: أ. سمية العريض