



ASESSMEN SUMATIF TENGAH SEMESTER GENAP

**TAHUN AJARAN
2025/2026**

MAPEL : IPS

KELAS :

NO. PESERTA :

“Bismillahirrahmanirrahim”



I. SOAL PILIHAN GANDA

A. Pilihlah salah satu jawaban yang paling benar!

1. Menurut Teori Out of Africa, manusia modern (Homo sapiens) yang ada di seluruh dunia saat ini berasal dari Afrika. Apa bukti utama yang mendukung teori ini?

2. Teori Yunnan menyatakan bahwa nenek moyang bangsa Indonesia berasal dari wilayah Cina Selatan. Jalur perpindahan ini diperkirakan terjadi melalui dua gelombang utama, yaitu ...

3. Salah satu argumen kuat dalam Teori Out of Taiwan adalah persebaran bahasa. Rumpun bahasa yang tersebar dari Taiwan hingga ke seluruh wilayah Nusantara dan Pasifik disebut ...

4. Mengapa Teori Out of Taiwan dianggap lebih akurat oleh banyak ahli dibandingkan Teori Yunnan dalam menjelaskan asal-usul leluhur bangsa Indonesia saat ini?

5. Jika kita menganalisis pola migrasi manusia purba, faktor utama yang menyebabkan manusia dari Afrika (Out of Africa) atau Yunnan melakukan perpindahan besar-besaran adalah ...

B. Pilihlah dua jawaban yang benar!

6. Berdasarkan teori 'Out of Taiwan', bangsa Austronesia membawa berbagai keterampilan saat bermigrasi ke Nusantara. Manakah di antara berikut yang merupakan ciri khas kebudayaan yang dibawa oleh bangsa Austronesia?

7. Migrasi bangsa Austronesia tidak hanya membawa orang, tetapi juga bahasa. Apa dampak utama dari persebaran rumpun bahasa Austronesia terhadap keragaman di Indonesia saat ini?

8. Persebaran Austronesia sering dikaitkan dengan tradisi megalitikum di Indonesia. Manakah contoh peninggalan budaya berikut yang menunjukkan pengaruh tradisi tersebut dalam kehidupan masyarakat Nusantara?


9. Indonesia memiliki keragaman budaya yang sangat tinggi karena letaknya yang strategis. Bagaimana proses migrasi Austronesia berkontribusi terhadap hal ini?






10. Sebagai murid kelas 9, mengapa penting untuk memahami hubungan antara migrasi Austronesia dengan budaya kita saat ini?

II. SOAL MENJODOHKAN

Rempah Asli Indonesia

Perhatikan gambar dan deskripsi pada kolom A, kemudian pasangkan dengan jenis rempah dan daerah asal yang tepat pada kolom B!

No	Gambar dan Deskripsi	Jenis rempah dan daerah asal		
11	 <p>Kuncup bunga kering yang aromatik, dahulu menjadi komoditas termahal di dunia dan memicu penjelajahan samudra.</p>	<input checked="" type="radio"/>	<input checked="" type="radio"/>	A. Lada (Lampung & Banten)
12	<p>Buah yang memiliki biji keras dan selaput merah (fuli). Rempah ini secara eksklusif hanya ditemukan di satu gugusan kepulauan kecil di Maluku Tengah.</p>	<input checked="" type="radio"/>	<input checked="" type="radio"/>	B. Kayu Manis (Jambi & Sumatera Barat)
13	<p>Dijuluki sebagai "<i>The King of Spices</i>". Meskipun berasal dari India, tanaman ini berkembang pesat di wilayah Sumatera dan menjadi alasan VOC membangun benteng di Banten.</p>	<input checked="" type="radio"/>	<input checked="" type="radio"/>	C. Cengkeh (Maluku Utara: Ternate & Tidore)

No	Gambar dan Deskripsi	Jenis rempah dan daerah asal		
14	 <p>Bagian kulit kayu bagian dalam yang dikeringkan hingga menggulung. Indonesia merupakan produsen terbesar di dunia, khususnya dari daerah kaki Gunung Kerinci.</p>			D. Pala (Kepulauan Banda, Maluku)
15	<p>Rempah ini menyebabkan Belanda rela menukar wilayah Pulau Run (di Maluku) dengan Pulau Manhattan (di New York, Amerika Serikat) dalam Perjanjian Breda tahun 1667 karena nilai ekonominya yang luar biasa</p>			E. Biji Pala (Kepulauan Banda)

III. SOAL BENAR-SALAH

Jalur Rempah dan Kejayaan Maritim Nusantara

Bacalah setiap pernyataan di bawah ini dengan seksama. Tentukan apakah pernyataan tersebut **Benar (B)** atau **Salah (S)** berdasarkan fakta sejarah dan analisis keterkaitannya!

No	Pernyataan	Benar	Salah
1	Bangsa Indonesia di masa kuno dikenal sebagai pelaut ulung karena mampu melayari Samudra Hindia hingga pesisir Afrika menggunakan kapal bercadik jauh sebelum bangsa Eropa tiba di Nusantara		
2	Jalur Rempah dan Jalur Sutra adalah dua jalur perdagangan yang sama sekali tidak berhubungan, karena Jalur Sutra hanya melintasi daratan Asia sedangkan Jalur Rempah hanya melalui laut.		
3	Interaksi di Jalur Rempah mengakibatkan akulturasi budaya yang luas, salah satunya adalah pengaruh kosa kata bahasa Sanskerta dan Arab dalam bahasa daerah di Indonesia serta pengaruh kuliner berbasis rempah.		
4	Pengajuan Jalur Rempah sebagai Warisan Budaya Dunia ke UNESCO hanya didasarkan pada jumlah benda arkeologi yang ditemukan, bukan pada nilai sejarah pertukaran budaya antar bangsa.		
5	Menghidupkan kembali narasi Jalur Rempah di masa kini merupakan modal diplomasi penting bagi Indonesia untuk memperkuat posisi sebagai poros maritim dunia dan meningkatkan nilai ekonomi produk lokal di pasar global.		

“ALHAMDULILLAH”

**“YAKINLAH SETIAP USAHA TIDAK AKAN
MENKHIANATI HASIL”**