



LKPD MATEMATIKA KELAS 7

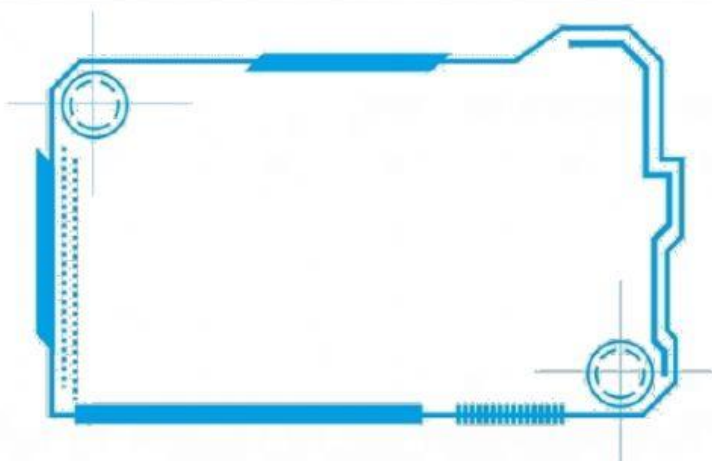
MATERI SEGITIGA DAN SEGIEMPAT

PENGAMPU : KUSNAENI. S.Pd

Nama / Kelas :


A. Input Video

Pahami video pembelajaran berikut



B. Kerjakanlah soal-soal di bawah ini !

1. Jawablah pertanyaan berikut dengan benar !



1. Sebuah taman berbentuk persegi dengan panjang sisi 80m. Disekeliling taman akan dipasang lampu yang berjarak 20m antara satu lampu dengan yang lainnya. Berapakah jumlah lampu yang mengelilingi taman tersebut?

2. Pilihlah nama yang sesuai untuk gambar berikut !



3. Pilihlah satu jawaban yang benar !

Bangun datar yang memiliki empat sisi sama panjang dan empat sudut siku-siku disebut...

A. Persegi panjang

C. persegi

B. layang-layang

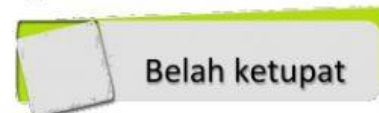
D. Trapesium

4. Kontak Centang

Berilah tanda centang pada bangun datar yang merupakan bangun segiempat !



Jajar genjang



Belah ketupat



lingkaran



Segitiga siku-siku

5. Tariklah garis dari huruf A/B ke arah kotak pasangannya!

A

PERSEGI

PERSEGI PANJANG

JAJAR GENJANG


B

$L = \text{alas} \times \text{tinggi}$

$L = \text{panjang} \times \text{lebar}$

$L = \text{sisi} \times \text{sisi}$

6. Tekan dan Tarik nama bangun ke bangun segiempat yang tepat !



Belah
ketupat

trapesium

Persegi
panjang

