



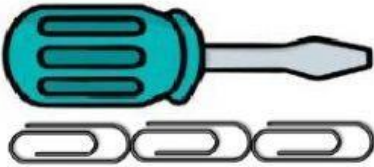
# Medidas no convencionales de longitud

Nombre:

Segundo:


1.-Una con una línea según corresponda

a




4 clips

b



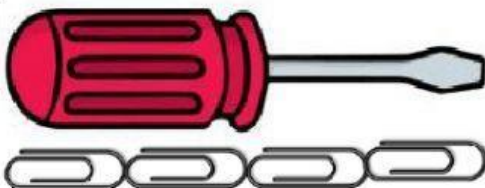
5 clips

c



3 clips

d



7 clips

2.-De acuerdo con la información anterior selecciona la respuesta correcta en las siguientes preguntas

1. ¿Cuál es el destornillador más corto?

a	b	c	d
---	---	---	---

2. ¿Cuál es el destornillador más largo?

a	b	c	d
---	---	---	---

3.- Arrastra la unidad de medida más adecuada para medir cada situación

a.-El ancho de una caja de zapatos

b.- La longitud de una cancha de fútbol

c.- La longitud de una alfombra

d.- El largo del libro

palo de helado

clip

cuerda

zapato


# Medidas no convencionales de capacidad

1.-Une con una línea el objeto con su forma más rápida de llenar

a



b



c



2.-De acuerdo con la información anterior selecciona la respuesta correcta en las siguientes preguntas

1. ¿Cuál es el recipiente que tiene más agua?

a	b	c
---	---	---

2. ¿Cuál es el recipiente que tiene menos agua?

a	b	c
---	---	---