




ACTIVIDAD COMPLEMENTARIA ARTÍSTICA-MÚSICA

I. ESCRIBE EL NOMBRE DE LAS SIGUIENTES NOTAS MUSICALES



2. SUMAR LOS VALORES DE LOS SIGUIENTES GRUPOS DE FIGURAS:

$$\text{Quarter} + \text{Quarter} + \text{Quarter} =$$

$$\text{Quarter} + \text{Quarter} + \text{Quarter} =$$

$$\text{Quarter} + \text{Quarter} + \text{Quarter} + \text{Quarter} =$$

$$\text{Quarter} + \text{Quarter} + \text{Quarter} + \text{Quarter} =$$

$$\text{Quarter} + \text{Quarter} + \text{Quarter} + \text{Quarter} =$$

$$\text{Quarter} + \text{Quarter} + \text{Quarter} + \text{Quarter} =$$



1. Escuchar el patrón rítmico y elegir la respuesta correcta.


AUDIO 1


AUDIO 2


AUDIO 3


AUDIO 4

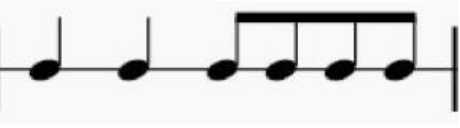
AUDIO 5

a. 

b. 

c. 

d. 

e. 

2. UBICAR LA POSICION DE LAS NOTAS MUSICALES EN LA FLAUTA

DO

RE

MI

FA

SOL

LA

SI

