



## TALLER DE MUSICA GRADO SEXTO

Teniendo en cuenta la tabla con las figuras musicales, responder las siguientes preguntas:

NOMBRE	FIGURA	DURACION	SILENCIO
REDONDA		4 tiempos	
BLANCA		2 tiempos	
NEGRA		1 tiempo	
CORCHEA		$\frac{1}{2}$ tiempo	
SEMICORCHEA		$\frac{1}{4}$ tiempo	

1. Sumar los valores de los siguientes grupos de figuras:

$$\text{Corchea} + \text{Corchea} + \text{Blanca} =$$

$$\text{Corchea} + \text{Corchea} + \text{Corchea} + \text{Corchea} + \text{Blanca} =$$






$$\text{Corchea} + \text{Blanca} + \text{Redonda} + \text{Redonda} =$$

$$\text{Redonda} + \text{Corchea} + \text{Corchea} + \text{Blanca} =$$

$$\text{Blanca} + \text{Redonda} + \text{Blanca} + \text{Redonda} =$$

$$\text{Redonda} + \text{Corchea} + \text{Corchea} + \text{Blanca} + \text{Corchea} =$$

2. Escuchar el patrón rítmico y elegir la respuesta correcta.

- a. 
- b. 
- c. 
- d. 
- e. 



3. Relacionar el nombre de la figura con el nombre y el silencio correspondiente



NEGRA



SEMICORCHEA



REDONDA



BLANCA



CORCHEA



4. ubicar la imagen con la nota correspondiente (tener en cuenta que los agujeros blancos quieren decir que va destapado)

