


GAYA PADA BENDA

(HUKUM NEWTON)


1. Buatlah garis ke pernyataan yang benar (arahkan kursor sampai muncul gambar pensil)!



Gaya dapat mengubah
kecepatan benda



Gaya dapat mengubah
bentuk benda



Gaya dapat mengubah
benda yang diam
menjadi bergerak



Dayu mengayuh sepeda
dengan lambat


Dayu mengayuh sepeda
dengan cepat

Gaya dapat mengubah
arah gerak benda

2. Tentukanlah jenis gaya pada gambar-gambar di bawah ini dengan mengklik kotak yang tersedia dan memilih jenis gayanya!













Gambar 3.2 Magnet (dibuatkan oleh benedict-hendrick)

