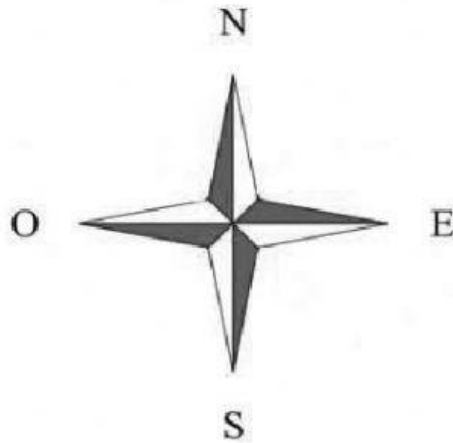


## ROTAZIONE

Piero è in piedi davanti alla finestra della sua stanza che guarda verso SUD. Si gira a destra di  $90^\circ$  e poi ancora a destra di  $90^\circ$ .



**In quale direzione guarda adesso?**

**Osserva le seguenti figure**

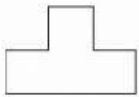


Figura 1

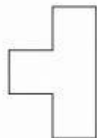


Figura 2

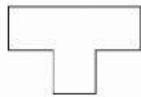


Figura 3



Figura 4

**Ogni figura è stata ottenuta dalla precedente con una rotazione di:**