

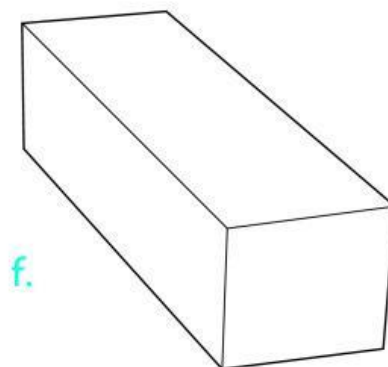
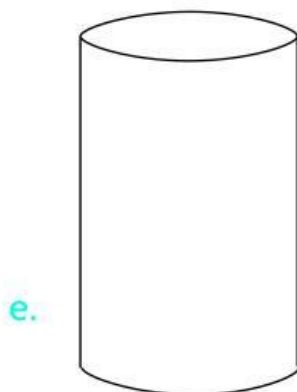
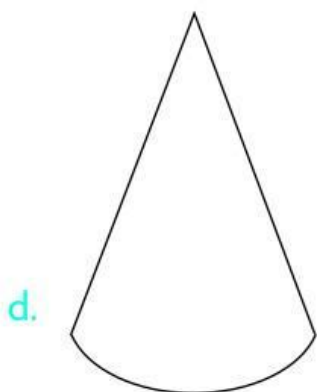
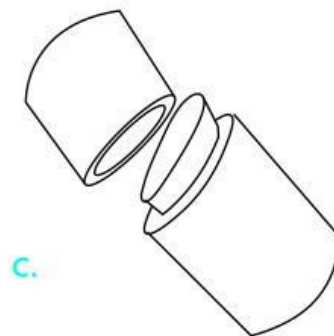

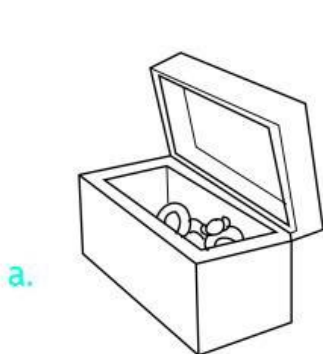
D16. Osserva la sottrazione.

$$\dots - 21 = 11$$

Qual è il numero mancante?

- ☐ A. 23
- ☐ B. 33
- ☐ C. 32

D17. Collega con una freccia ciascun oggetto alla figura solida simile.



D18. Osserva la figura.



Qual è la sua metà?



Figura 1



Figura 2



Figura 3

- ☐ A. Figura 1
- ☐ B. Figura 2
- ☐ C. Figura 3

D19. Carlo oggi uscirà da scuola alle 11.30 perché ha una visita dal dentista.
Quale dei seguenti orologi segna l'ora in cui Carlo uscirà?

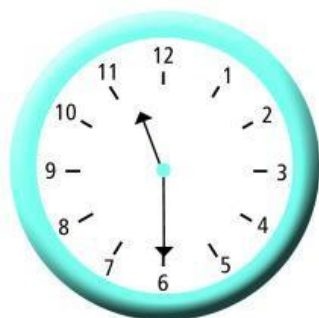


Figura 1

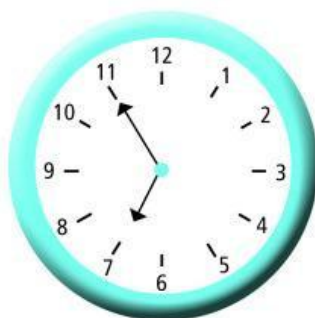


Figura 2

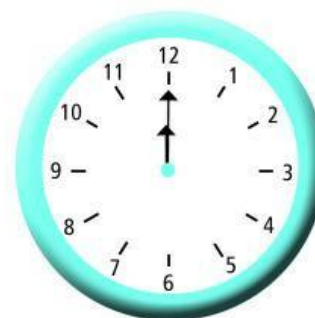



Figura 3

- ☐ A. Figura 1
- ☐ B. Figura 2
- ☐ C. Figura 3

D20. Osserva la figura.



Quanti cubetti sono stati utilizzati?

- ☐ A. 32
- ☐ B. 25
- ☐ C. 16

D21. Marco dice ai suoi amici:

“Il numero a cui sto pensando è dispari, ha 2 decine ed è più piccolo di 23.”



Rita

È 22.



Alessia

È 25.



Michele

È 21.

Quale dei tre bambini ha capito qual è il numero?

- ☐ A. Michele
- ☐ B. Rita
- ☐ C. Nessuno dei tre