



LOMBA SISWA PRESTASI AKADEMIK



PKG BINA PRESTASI TAHUN 2026

"Encourage one another and build each other up"

SKETCH
BOOK

LIVEWORKSHEETS

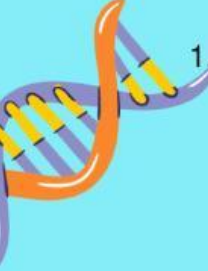








SELEKSI SISWA BERPRESTASI










PETUNJUK Pengerjaan !




1. Berdoalah sebelum mengerjakan soal agar diberi kemudahan dan kelancaran.
2. Pastikan perangkat (HP/ Laptop) dan koneksi internet dalam kondisi baik sebelum memulai.
3. Isilah nama lengkap, asal sekolah dan kelas.
4. Waktu pengerjaan 90 menit untuk 100 soal. Waktu berjalan otomatis setelah mengklik tombol mulai.
5. Seluruh soal berbentuk pilihan ganda.
6. Komposisi soal adalah sebagai berikut:
 - Bahasa Indonesia : 20 soal
 - Pendidikan Pancasila : 20 soal
 - IPA : 20 soal
 - IPS : 20 soal
 - Matematika : 10 soal
 - Bahasa Inggris : 10 soal
7. Pilih satu jawaban yang paling benar pada setiap soal dengan mengklik pilihan yang tersedia.
8. Kerjakan soal dengan teliti dan jujur, serta manfaatkan waktu sebaik-baiknya.
9. Pastikan seluruh soal telah dijawab sebelum waktu habis.
10. Setelah selesai, klik tombol **(Submit/kirim)** mengirimkan jawaban.
11. Jawaban yang telah dikirim tidak dapat diubah kembali.
12. Selama mengerjakan, peserta dilarang membuka buku, catatan, atau bertanya kepada orang lain.
13. Apabila terjadi kendala teknis, segera laporkan kepada pengawas/ guru.

SELAMAT Mengerjakan !





- 
- 
- 
- 
- 
- 
- 
- 
- 
1. Dina memakai baju Rara setelah pulang sekolah. Objek pada kalimat tersebut adalah....
 - a. Dina
 - b. Memakai
 - c. Baju
 - d. Sekolah
 2. Ketakutan yang sangat berlebihan terhadap benda atau keadaan tertentu yang menghambat kehidupan penderitanya disebut....
 - a. Geriatri
 - b. Hipertensi
 - c. Fobia
 - d. Sosialisasi
 3. Kata yang sama lafal dan ejaannya, tetapi berbeda maknanya disebut....
 - a. Homograf
 - b. Homofon
 - c. Homonim
 - d. Heterogen
 4. Dari tanaman berbunga ungu di pojok kiri sampai pohon mangga besar di kanan, semua disiram Erlangga. Erlangga melakukannya secara sistematis. Agar tidak ada yang terlewat. Arti kata 'sistematis' pada kalimat di atas adalah....
 - a. Pengaturan
 - b. Dengan acak-acakan
 - c. Dengan cara teratur
 - d. Terwakilkan dari keseluruhan
 5. Majas yang memberikan kesan benda mati seakan-akan memiliki perilaku seperti manusia disebut....
 - a. Majas Hiperbola
 - b. Majas Personifikasi
 - c. Majas Metafora
 - d. Majas Asosiasi
 6. Kalimat yang terdiri atas dua kalimat tunggal atau lebih yang dihubungkan oleh kata penghubung disebut....
 - a. Kalimat majemuk
 - b. Kalimat perintah
 - c. Kalimat langsung
 - d. Kalimat berita
 7. Tanda baca yang digunakan untuk memisahkan unsur-unsur dalam suatu perincian adalah....
 - a. Tandan seru (!)
 - b. Tanda titik (.)
 - c. Tanda tanya (?)
 - d. Tanda koma (,)


- 
- 
- 
- 
- 
- 
- 
- 
- 
8. Laporan hasil pengamatan disusun berdasarkan....
- Buku dongeng
 - Khayalan penulis
 - Fakta di lapangan
 - Cerita dari orang lain
9. Penulisan huruf kapital yang benar pada kalimat di bawah ini adalah....
- bibi pergi belanja ke pasar minggu
 - bibi pergi belanja ke Pasar minggu
 - Bibi pergi belanja ke pasar Minggu
 - Bibi Pergi belanja ke Pasar Minggu
10. Latar waktu pada kutipan cerita "Dikala sore datang, Kancil bersiap pulang ke rumah untuk beristirahat" adalah....
- Sejenak
 - Beristirahat
 - Dikala sore datang
 - Pulang ke rumah
11. Penulisan daftar pustaka yang benar diawali dengan nama....
- Penerbit
 - Kota terbit
 - Judul buku
 - Pengarang (dibalik)
12. Bagian surat undangan yang berisi identitas pengirim dan alamatnya disebut....
- Kop surat
 - Salam pembuka
 - Isi surat
 - Salam penutup
13. Iklan yang ditayangkan di televisi termasuk jenis iklan....
- Iklan baris
 - Media elektronik
 - Iklan pengumuman
 - Media cetak
14. Dalam sebuah paragraf deskripsi, penulis menuliskan cerita yang bertujuan untuk....
- Meyakinkan pembaca untuk melakukan sesuatu
 - Menceritakan urutan suatu kejadian
 - Menggambarkan suatu objek seolah pembaca melihatnya
 - Menjelaskan cara membuat sesuatu
15. Imbuhan 'pe-' pada kata 'penonton' memiliki makna....
- Orang yang melakukan pekerjaan
 - Alat untuk melakukan sesuatu
 - Satuan ukuran
 - Sifat seseorang


- 
- 
- 
16. Kata baku yang tepat untuk melengkapi kalimat 'Roni pergi ke ... untuk membeli obat' adalah....
- Apotik
 - Apotike
 - Apotek
 - Apotik

17. Data yang biasanya diisikan dalam formulir pendaftaran lomba adalah....
- Nama orang tua dan gaji bulanan
 - Jumlah buku yang dimiliki
 - Makanan kesukaan
 - Nama, tempat tanggal lahir, dan alamat



- 
- 
18. Pidato yang dilakukan secara mendadak tanpa persiapan naskah disebut teknik....
- Impromptu
 - Manuskrip
 - Memoriter
 - Ekstempore




19. Peribahasa 'Besak pasak daripada tiang' artinya....
- Membangun rumah yang sangat mewah
 - Keberuntungan yang datang bertubi-tubi
 - Lebih besar pengeluaran daripada pendapatan
 - Seseorang yang malas bekerja

- 
20. Kalimat berikut yang merupakan kalimat efektif adalah....
- Anak – anak bermain di lapangan.
 - Banyak anak – anak bermain di lapangan.
 - Ibu memasak sayur sangat enak sekali.
 - Agar supaya kita sehat, kita harus olahraga


- 
21. Salah satu manfaat keragaman sosial budaya bagi masyarakat adalah...
- Menarik minat para wisatawan untuk berkunjung
 - Menimbulkan konflik di antara Masyarakat
 - Membuat Masyarakat lebih baik
 - Pengolahan yang tidak mudah

22. Rumusan dan susunan Pancasila yang benar dan sah tercantum dalam...
- Pidato Ir. Soekarno tanggal 1 Juni 1945
 - Piagam Jakarta
 - Pidato Bung Hatta tanggal 29 Mei 1945
 - Pembukaan UUD 1945


- 
23. Suatu masalah yang menyangkut orang banyak selalu dengan cara musyawarah dan mufakat. Hal tersebut dilakukan dengan kebersamaan untuk menjaga...
- Persatuan dan kesatuan bangsa
 - Nama baik dan kehormatan
 - Kepentingan pribadi dan golongan
 - Keseimbangan hak dan kewajiban
- 

- 
- 
- 
24. Franklin D. Roosevelt adalah presiden yang mendirikan PBB. Franklin D. Roosevelt adalah presiden yang berasal dari negara...
- a. Jerman
 - b. Inggris
 - c. Amerika Serikat
 - d. Uni Soviet

25. Indonesia adalah negara yang menganut sistem demokrasi dalam pemerintahan. Sistem demokrasi mengartikan bahwa kekuasaan tertinggi berada ditangan rakyat. Sebagai rakyat Indonesia, semua orang memiliki hak dan kewajiban yang harus dijalankan. Hak Asasi Manusia diatur dalam pasal...
- a. 27
 - b. 28
 - c. 30
 - d. 31

- 
26. Perhatikan pernyataan berikut ini!
1. Ikut bertanggung jawab atas kebersihan, keamanan, dan ketertiban sekolah
 2. Mendapat bimbingan dari guru dan pendidikan
 3. Menggunakan fasilitas yang ada di sekolah
 4. Ikut membantu agar tata tertib sekolah dapat berjalan dengan lancar
- Dari pernyataan-pernyataan diatas yang termasuk hak anak di sekolah adalah...
- a. 1 dan 2
 - b. 1 dan 4
 - c. 2 dan 4
 - d. 2 dan 3


27. Dibawah ini yang tidak termasuk otonomi daerah adalah...
- a. Pelayanan pajak daerah
 - b. Pertahanan pengamanan wilayah dari serangan teroris
 - c. Mengadakan festival untuk meningkatkan wisatawan
 - d. Penentuan Upah Minimum Regional (UMR)

- 
28. Orang tua Siti lebih memilih membelikan keperluan sekolah dibandingkan mainan untuknya, sehingga Siti bersedih. Sebagai teman Nana memberikan nasehat kepada Siti bahwa dia tidak perlu sedih karena jika orang tua Siti lebih memilih membelikan mainan, nantinya kebutuhan sekolah Siti tidak akan terpenuhi. Mendengan nasehat Nana, Siti mengerti sikap orang tuanya tersebut dan tidak bersedih lagi. Sikap yang ditunjukkan Siti mencerminkan sila ke...Pancasila
- a. Pertama
 - b. Kedua
 - c. Keempat
 - d. Kelima

29. Setiap warga negara Indonesia diwajibkan memiliki agama sesuai dengan sila pertama Pancasila. Kebebasan dalam memeluk agama dan beribadah tertuang dalam pasal...
- a. 29
 - b. 30
 - c. 31



d. 32

30. Sebagai negara hukum Indonesia memiliki Undang-Undang untuk mengatur setiap kegiatan pemerintahan tak terkecuali kehidupan Masyarakat. Pasal 33 Undang-undang Dasar 1945 mengatur tentang...
- Sistem perekonomian negara
 - Fakir miskin dan anak terlantar
 - Bentuk negara dan kedaulatan
 - Pendidikan dan kebudayaan
31. Salah satu syarat berdirinya negara adalah dasar negara. Pancasila sebagai dasar negara disahkan olehpada tanggal....
- BPUPKI, tanggal 1 Juni 1945
 - BPUPKI, tanggal 18 Agustus 1945
 - PPKI, tanggal 1 Juni 1945
 - PPKI, tanggal 18 Agustus 1945
32. Hak yang dimiliki DPR untuk melakukan penyelidikan terhadap pelaksanaan suatu Undang-Undang/ Kebijakan pemerintah yang berkaitan dengan hal penting, strategis dan berdampak luas pada kehidupan bermasyarakat, berbangsa dan bernegara yang diduga bertentangan dengan peraturan perundang undangan adalah...
- Hak angket
 - Hak interpelasi
 - Hak inisiatif
 - Hak budget
33. Pancasila sebagai pedoman hidup bangsa telah menyiratkan sikap-sikap warga negara. Berikut ini contoh sikap yang mencerminkan sika ketiga Pancasila adalah...
- Memeluk agama dengan baik
 - Bermusyawarah dalam menyelesaikan konflik
 - Menjaga kerukunan antar Masyarakat
 - Menolong warga yang tertimpa musibah banjir
34. Dalam sebuah keluarga, semua anggota saling berbagi tugas untuk menjaga kebersihan rumah. Ayah membersihkan halaman, ibu memasak, anak-anak membersihkan kamar masing-masing. Cerita tersebut mencerminkan pengamalan nilai
- Tanggung jawab
 - Kerukunan
 - Kebersamaan
 - Kebebasan
35. Andre seorang murid yang berprestasi disekolah. Andre mendapat tugas untuk megikuti lomba siswa prestasi ditingkat kecamatan. Bentuk tanggung jawab yang sebaiknya dilakukan Andre adalah...
- Rasa percaya diri lebih ditingkatkan
 - Lebih giat lagi belajarnya agar meraih juara
 - Bangga karena menjadi siswa berprestasi
 - Karena sudah berprestasi tidak usah belajar
- 

36. Kekuatan, kemampuan dan daya tahan negara dalam menghadapi tantangan, ancaman dan gangguan yang datang dari dalam maupun luar negeri yang dapat membahayakan bangsa dan negara disebut

- a. Ketahanan Nasional
- b. Persatuan Nasional
- c. Keutuhan Negara
- d. Persaudaraan Nasional

37. Fungsi negara mengawasi agar semua peraturan perundang-undangan dipatuhi dalam kehidupan merupakan fungsi...

- a. Legislatif
- b. Eksekutif
- c. Yudikatif
- d. Feredatif

38. Batas laut sejauh 12 mil dari titik terluar sebuah pulau ke laut bebas disebut dengan...

- a. Zona Ekonomi Eksklusif
- b. Batas Laut Teritorial
- c. Batas Landas Kontinen
- d. Batas Laut Negara

39. Negara Kesatuan Republik Indonesia dapat memperoleh kemerdekaan melalui...

- a. Pemberian oleh Jepang
- b. Pengorbanan jiwa, raga dan harta rakyat
- c. Hadiah dari Sekutu
- d. Datang dengan sendirinya

40. Pahlawan nasional yang berasal dari daerah Maluku yaitu...

- a. Pattimura dan Cut Nyak Dien
- b. Sultan Hasanudin dan Cut Nyak Dien
- c. Pattimura dan Christina Martha Tiahahu
- d. Imam Bonjol dan Christina Martha Tiahahu

41. Tumbuhan membutuhkan cahaya matahari untuk membuat makanan. Jika tanaman diletakkan di tempat gelap dalam waktu lama, maka yang akan terjadi adalah ...

- a. Tumbuhan tumbuh lebih subur
- b. Daun menjadi hijau tua
- c. Tumbuhan layu dan mati
- d. Akar tumbuh lebih Panjang

42. Saat berada di ruangan gelap, mata manusia menyesuaikan diri agar dapat melihat. Bagian mata yang berperan dalam peristiwa ini adalah ...

- a. Lensa mata menipis
- b. Pupil mata mengecil
- c. Pupil mata membesar
- d. Retina menyusu

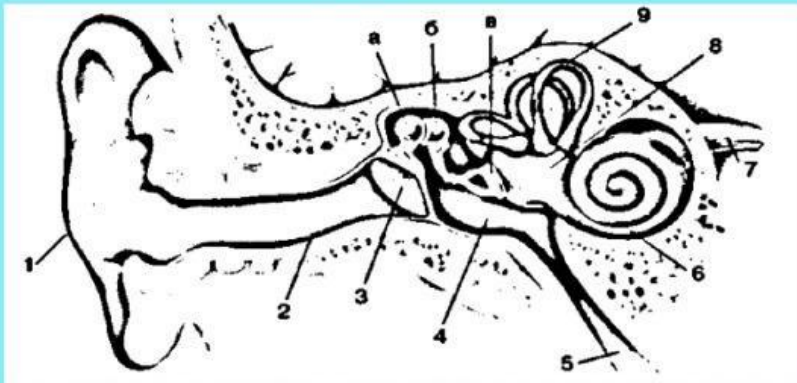
43. Pada musim kemarau, pohon jati biasanya menggugurkan sebagian besar daunnya. Peristiwa tersebut terjadi karena



- a. Pohon jati sedang berkembang biak
- b. Pohon jati menyesuaikan diri agar tidak kekurangan air
- c. Pohon jati mengalami kerusakan batang
- d. Pohon jati menyerap air lebih banyak

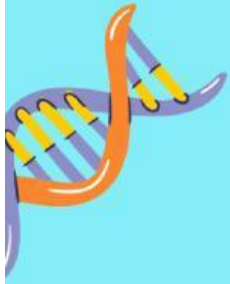
44. Pada suatu siang hari, Rina meletakkan es batu di dalam mangkuk dan membiarkannya di meja. Setelah beberapa waktu, es batu tersebut berubah menjadi air. Berdasarkan peristiwa tersebut, perubahan wujud yang terjadi adalah ...
- Gas menjadi cair karena terkena suhu rendah
 - Padat menjadi cair karena menerima panas
 - Cair menjadi gas karena terkena panas
 - Padat menjadi gas tanpa melalui cair
45. Rina sedang mempelajari proses pencernaan makanan pada manusia. Ia mengamati bahwa makanan dikunyah terlebih dahulu, kemudian dicerna secara bertahap hingga sisa makanan dikeluarkan dari tubuh. Berdasarkan proses tersebut, urutan proses pencernaan makanan yang benar adalah ...
- Mulut – lambung – kerongkongan – usus halus – usus besar – anus
 - Mulut – kerongkongan – lambung – usus halus – usus besar – anus
 - Kerongkongan – mulut – lambung – usus besar – usus halus – anus
 - Mulut – lambung – usus besar – usus halus – anus

46. Perhatikan gambar teinga dibawah ini!



Bagian telinga yang ditunjukkan pada nomor 3 di atas yaitu

- Daun telinga
 - Saluran telinga
 - Gendang telinga
 - Rumah sipu
47. Saat Ani mengetuk meja, temannya yang menempelkan telinga ke meja dapat mendengar bunyi lebih jelas dibandingkan saat mendengarnya melalui udara. Peristiwa tersebut menunjukkan bahwa gelombang bunyi paling cepat merambat melalui media ...
- Udara
 - Cair
 - Padat
 - Ruang hampa
48. Di sebuah pekarangan terdapat ayam yang memakan biji-bijian, cacing, dan sisa makanan manusia. Ayam dapat memakan berbagai jenis makanan, baik tumbuhan maupun hewan kecil. Berdasarkan peristiwa tersebut, hewan yang memakan berbagai jenis makanan (tumbuhan dan hewan) disebut...
- Karnivora
 - Omnivora
 - Herbivora
 - Insektivora



49. Perhatikan rantai makanan yang terjadi di sawah berikut!

Berdasarkan rantai makanan tersebut, konsumen tingkat 2 ditunjukkan oleh ...

- a. Belalang
- b. Padi
- c. Katak
- d. Ular



50. Raka berdiri di depan cermin dan melihat bayangan tubuhnya tampak sama seperti aslinya. Ketika ia menggerakkan tangan, bayangan di cermin juga ikut bergerak.

Peristiwa tersebut menunjukkan bahwa cahaya memiliki sifat

- a. Dapat dibiaskan
- b. Dapat dipantulkan
- c. Dapat diuraikan
- d. Dapat menembus benda bening

