

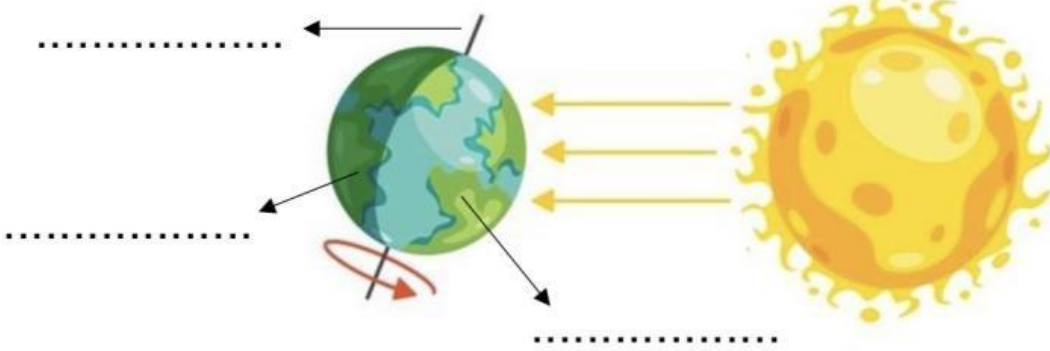
الاسم:

النهار

الليل

المحور

اضع الكلمات التالية في مكانها المناسب:



اختر الإجابة الصحيحة:



١- تدور الأرض حول نفسها باستمرار ويسمى ذلك ب.....

الدبال

الحركة الدورانية للأرض

موارد الأرض

٢- تدور الأرض حول خط وهمي يسمى.....

القمر

المحور

الدبال

٣- تدور الأرض دورة كاملة حول محورها كل:

٢٤ ساعة

٢ ساعة


٤ ساعات

ظهراً


صباحاً

عصراً

اضع الكلمات التالية في مكانها المناسب:



.....



.....



.....