










OBSERVE AS FIGURAS EM CADA FILEIRA E MARQUE O NÚMERO QUE CORRESPONDE A QUANTIDADE.

	1 2 3 4 5 6
	1 2 3 4 5 6
	1 2 3 4 5 6
	1 2 3 4 5 6
	1 2 3 4 5 6
	1 2 3 4 5 6
	1 2 3 4 5 6
	1 2 3 4 5 6
	1 2 3 4 5 6

QUAL A LETRA INICIAL DO NOME DE CADA FIGURA DENTRO DOS PEIXES?

