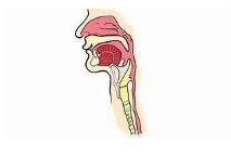
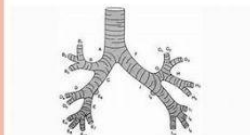


Alat-alat Pernapasan

Bagaimana udara dari luar bisa masuk kedalam paru-paru dan membantu metabolisme ?
Perhatikan Video dibawah ini !

<https://youtu.be/gZFvreUI4R8?si=3oDsVxdmU25SC8vZ>

Perhatikan gambar dibawah ini, ceklist gambar yang benar untuk alat-alat Pernapasan

☐☐☐☐☐

**Lengkapilah
kalimat rumpang
dibawah ini**

1. KERUSAKAN PADA SILIA DI RONGGA HIDUNG AKIBAT POLUSI UDARA MENYEBABKAN FUNGSI _____ TERGANGGU SEHINGGA PARTIKEL DEBU DAN MIKROORGANISME LEBIH MUDAH MASUK KE SALURAN PERNAPASAN BAWAH.
2. JIKA EPIGLOTIS TIDAK MENUTUP DENGAN SEMPURNA SAAT MENELAN, MAKA MAKANAN DAPAT MASUK KE _____ SEHINGGA BERISIKO MENYEBABKAN TERSEDAK.
3. PENYEMPITAN BRONKUS AKIBAT PERADANGAN AKAN MENGHAMBAT ALIRAN UDARA MENUJU _____ YANG BERPERAN LANGSUNG SEBAGAI TEMPAT TERJADINYA PERTUKARAN GAS.
4. PADA PENDERITA PNEUMONIA, ALVEOLUS TERISI CAIRAN SEHINGGA DIFUSI OKSIGEN MENUJU KAPILER DARAH MENJADI _____ MESKIPUN PROSES INSPIRASI TETAP BERLANGSUNG.

TRAKEA

ALVEOLUS

TIDAK OPTIMAL

PENYARINGAN UDARA

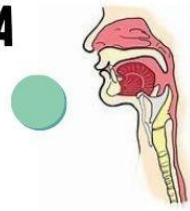
PASANGKANLAH ORGAN DAN FUNGSINYA

1. TEMPAT TERJADINYA

PERTUKARAN

OKSIGEN DAN

KARBONDIOKSIDA

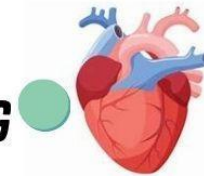


2. JALUR PENGHUBUNG

UDARA DARI

RONGGA HIDUNG

MENUJU LARING.



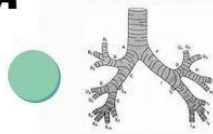
3. MENYALURKAN

UDARA KE ALVEOLUS



4. TEMPAT TERJADINYA

RESPIRASI



NAMA :

Kelas :

SMAN 24 KABUPATEN
TANGERANG

